

ВСЕРОССИЙСКАЯ ОЛИМПИАДА ШКОЛЬНИКОВ
ИСТОРИЯ. 2024–2025 уч. г.
ШКОЛЬНЫЙ ЭТАП. 11 КЛАСС

ОТВЕТЫ И КРИТЕРИИ ОЦЕНИВАНИЯ

Максимальный балл за работу – 100.

1 (1-2). Перед вами фрагменты двух исторических источников, описывающих события из разных веков, и события из списка. Определите, какие события произошли в том же веке, что и события, описываемые во фрагменте, и установите соответствие. Обратите внимание, что среди событий есть лишние.

1.1. Братья и друзья, сыновья земли Русской! Соберёмся вместе, составим слово к слову, возвеселим Русскую землю, отбросим печаль в восточные страны, и восхвалим победу великого князя Дмитрия Ивановича, и брата его, князя Владимира Андреевича, прославим! И скажем так: лучше ведь, братья, возвышенными словами вести нам этот рассказ про поход великого князя Дмитрия Ивановича и брата его, князя Владимира Андреевича, потомков святого великого князя Владимира Киевского.

Ответ: 2, 3.

1.2. Князь Андрей и город Владимир неприступным сделал, к нему он ворота золотые соорудил, а другие – серебром отделал, и создал соборную каменную церковь в честь святой Богородицы, весьма прекрасную, и разными украшениями осыпал её из золота и серебра, и пять куполов её вызолотил, а все три церковные двери золотом выложил и дорогими камнями, и жемчугом украсил её драгоценным, и всяким узорным литьём расцветил, и обильем светильников золотых и серебряных её осветил, и амвон из золота и серебра поставил, а служебные сосуды и опахала и другие украшения церковные – всё золотом и драгоценным камнем, и жемчугом крупным в изобилии осыпал.

1. основание Москвы
2. восстание Уота Тайлера
3. карательный поход против Тверского княжества
4. нашествие Батыя на Русь
5. постройка Успенского собора во Владимире
6. взятие Константинополя крестоносцами
7. появление движения гуситов в Чехии
8. Ледовое побоище

Ответ: 1, 5.

За каждый верный выбор – 2 балла, за каждый неверный выбор – штраф 2 балла, но не менее 0 баллов за задание. Максимум за задание – 8 баллов.

2 (3-8). Вам предлагаются фрагменты исторических источников, годы их создания и названия государств, которые наряду с Россией участвовали в описываемых событиях. Заполните пропуски в таблице.

Фрагмент мирного договора	Год создания	Государства, подписавшие документ
(А)	(Б)	Московское царство, Речь Посполитая
Е. к. в. свейское уступает сим за себя и своих потомков и наследников свейского престола и королевства Свейского е. ц. в. и его потомкам и наследникам Российского государства в совершенное непрекословное вечное владение и собственность в сей войне, чрез е. ц. в. оружия от короны свейской завоёванные провинции: Лифляндию, Эстляндию, Ингерманландию и часть Карелии с дистриктом Выборгского лена, который ниже сего в артикуле разграничения означен и описан, с городами и крепостями: Ригой, Дюнаминдом, Пернавой, Ревелем, Дерптом, Нарвой, Выборгом, Кексгольмом и всеми прочими к помянутым провинциям надлежащими городами, крепостями, гаванями, местами, дистриктами, берегами, с островами Эзель, Даго и Меном и всеми другими от курляндской границы по лифляндским, эстляндским и ингерманландским берегам и на стороне Оста от Ревеля в фарватере к Выборгу на стороне Зюйда и Оста лежащими островами.	(В)	Российская империя, (Г)
(Д)	907	Древнерусское государство, (Е)

Варианты вставок для А, Д.

1) По утверждении статьею второю сего мирнаго договора, в числе прочих трактатов, акта 28 Декабря 1783 года постановленнаго, касающагося до присоединения к Империи Всероссийской Крыма, Тамана и определяющаго границую в той стороне между обеими договаривающимися сторонами реку Кубань, Блистательная Порта Оттоманская, в изъявление, что она на времена будущия желает отдалить всё, что мир, тишину и доброе согласие между

обеими Державами возмутить может, обещает и обязуется торжественно употребить всю власть и способы к обузданию и воздержанию народов, на левом берегу реки Кубани обитающих при границах ея, дабы они на пределы Всероссийской Империи набегов не чинили...

4) Статья I.

Россия с одной стороны и Германия, Австро-Венгрия, Болгария и Турция с другой объявляют, что состояние войны между ними прекращено; они решили впредь жить между собой в мире и дружбе.

Статья II.

Договаривающиеся стороны будут воздерживаться от всякой агитации или пропаганды против правительства или государственных и военных установлений другой стороны. Поскольку это обязательство касается России, оно распространяется и на области, занятые державами четверного союза.

7) Нашему великому государю, царю и великому князю передаются те города, которые король Стефан взял из владений великого государя: город Великие Луки, Невель, Заволочье, а также Ржеву пустую, города: Холм и, кроме того, те псковские пригороды, которые король Стефан занял во владениях великого государя: Воронеч, Велью, Остров, Красное, и то, что мог бы взять впоследствии король Стефан из псковских пригородов: Врев или Володимерец, Дубков, Выборец, Вышеград, Изборск, Опочку, Гдов, Кобылье городище и Себеж. Пусть все эти относящиеся к Пскову города перейдут к великому государю нашему по древнему обычаю со всем имуществом и волостями при этих крепостях. Люди же, оружие и снаряжение должны быть вывезены в соответствии с постановлением так, чтобы ближние люди великого государя, присланные в Ливонию, вывезли людей из городов: Дерпта, Новгородка, Пайды, Полчева, Тарваза, Перкеля, Салача, Пернова и Фелина.

10) Олег же, немного отойдя от (Царь)града, начал переговоры о мире с греческими царями Леоном и Александром, послав к ним в город Карла, Фарлафа, Вермуда, Рулава и Стемида со словами «Платите мне дань». И сказали греки: «Что хочешь, дадим тебе». И указал Олег дать (своим) воинам на 2000 кораблей по 12 гривен на уключину, и потом давать содержание прибывающим из русских городов: прежде всего из Киева, а так же из Чернигова, Переяславля, Полоцка, Ростова, Любеча и прочих городов, ибо по тем городам сидят подвластные Олегу князья.

Когда приходят русские, пусть взимают содержание, сколько хотят, а если придут купцы, то пусть взимают месячное в течение 6 месяцев: хлеб, вино, мясо, рыбы и плоды. И пусть устраивают им баню, как только (они) захотят. Когда же русские отправятся к себе домой, то пусть взимают у вашего царя на дорогу еду, якоря, снасти, паруса и что им нужно.

Варианты вставок для Б, В.

1582

1721

1762

1783

Варианты вставок для Г, Е.

Московское царство

Швеция

Германия

Византийская империя

Ответ:

А	<p>Нашему великому государю, царю и великому князю передаются те города, которые король Стефан взял из владений великого государя: город Великие Луки, Невель, Заволочье, а также Ржеву пустую, города: Холм и, кроме того, те псковские пригороды, которые король Стефан занял во владениях великого государя: Воронеч, Велью, Остров, Красное, и то, что мог бы взять впоследствии король Стефан из псковских пригородов: Врев или Володимерец, Дубков, Выборец, Вышеград, Изборск, Опочку, Гдов, Кобылье городище и Себеж. Пусть все эти относящиеся к Пскову города перейдут к великому государю нашему по древнему обычаю со всем имуществом и волостями при этих крепостях. Люди же, оружие и снаряжение должны быть вывезены в соответствии с постановлением так, чтобы ближние люди великого государя, присланные в Ливонию, вывезли людей из городов: Дерпта, Новгородка, Пайды, Полчева, Тарваза, Перкеля, Салача, Пернова и Фелина.</p>
Б	1582
В	1721
Г	Швеция
Д	<p>Олег же, немного отойдя от (Царь)града, начал переговоры о мире с греческими царями Леоном и Александром, послав к ним в город Карла, Фарлафа, Вермуда, Рулава и Стемида со словами «Платите мне дань». И сказали греки: «Что хочешь, дадим тебе». И указал Олег дать (своим) воинам на 2000 кораблей по 12 гривен на уключину, и потом давать содержание прибывающим из русских городов: прежде всего из Киева, а так же из Чернигова, Переяславля, Полоцка, Ростова, Любеча и прочих городов, ибо по тем городам сидят подвластные Олегу князья.</p> <p>Когда приходят русские, пусть взимают содержание, сколько хотят, а если придут купцы, то пусть взимают месячное в течение 6 месяцев: хлеб, вино, мясо, рыбы и плоды. И пусть устраивают им баню, как только (они) захотят. Когда же русские отправятся к себе</p>

	домой, то пусть взимают у вашего царя на дорогу еду, якори, снасти, паруса и что им нужно.
Е	Византийская империя

За каждый верный ответ – 2 балла. Максимум за задание – 12 баллов.

3 (9-11). Выберите лишний элемент в каждом из предложенных рядов.

3.1. Выберите государственного деятеля, фамилию которого пропустили в приведённом ряду.

Г. Г. Ягода, ..., Л. П. Берия, С. Н. Круглов.

- 1) Ф. Э. Дзержинский
- 2) Л. Д. Троцкий
- 3) И. В. Сталин
- 4) Н. И. Ежов

Ответ: 4.

За верный ответ – 3 балла.

3.2. Выберите лишний термин среди предложенных в ряду.

Продналог, совбур, трест, стахановец.

- 1) продналог
- 2) совбур
- 3) трест
- 4) стахановец

Ответ: 4

За верный ответ – 3 балла.

3.3. Укажите исторического деятеля, фамилия которого пропущена в приведённом ряду.

С. И. Муравьев-Апостол, ..., П. Г. Каховский, К. Ф. Рылеев, М. П. Бестужев-Рюмин.

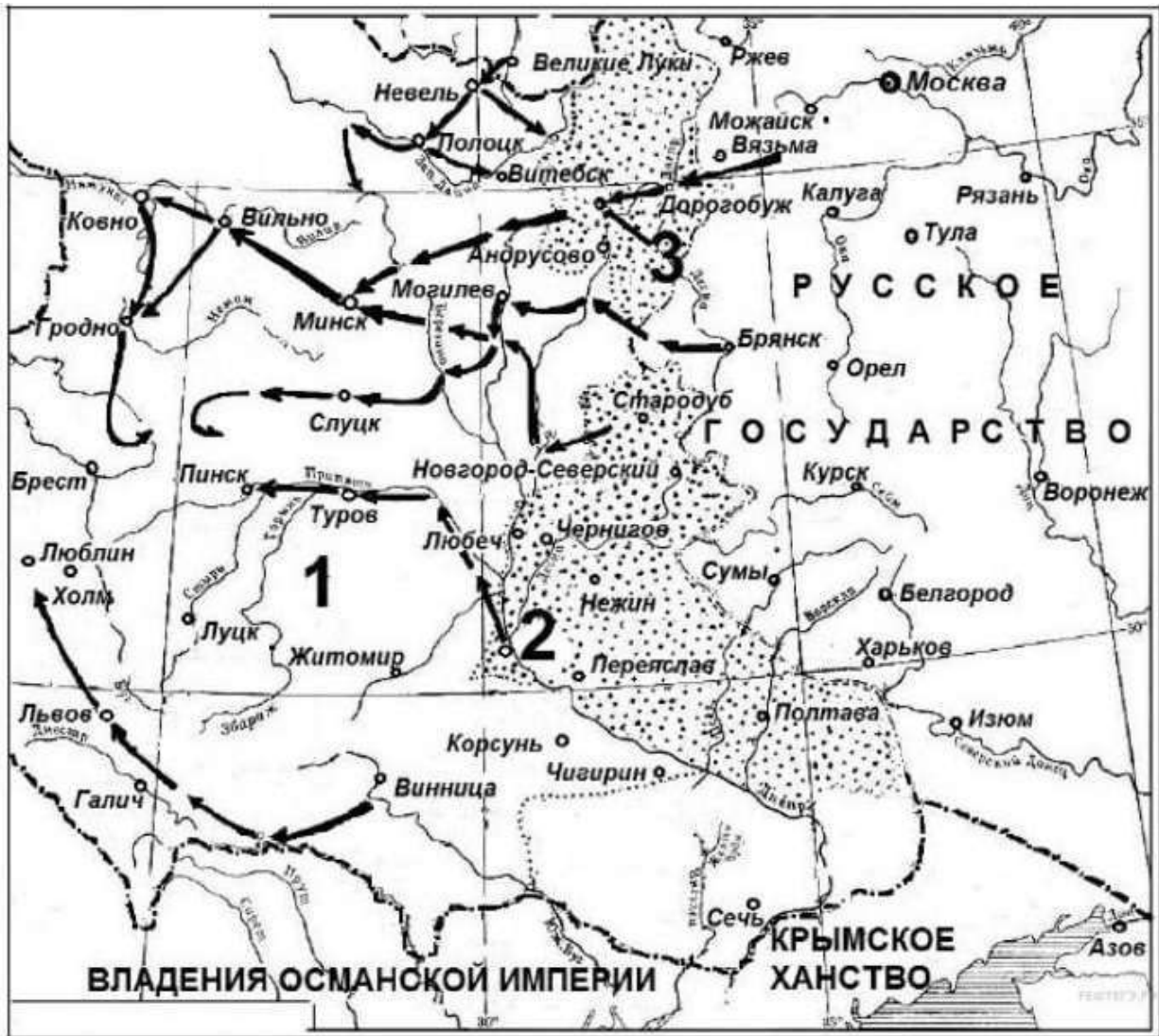
- 1) А. И. Герцен
- 2) В. Г. Белинский
- 3) С.П. Трубецкой
- 4) П. И. Пестель
- 5) Н. Г. Чернышевский

Ответ: 4.


За верный ответ – 2 балла.

Максимум за задание – 8 баллов.

4 (12-18). Внимательно рассмотрите схему и выполните задания.



4.1. Выберите портрет правителя России в период, когда происходили представленные на схеме события.





Ответ: Б.

За верный ответ – 2 балла.


4.2. Выберите из представленных изображений те, которые отражают события, произошедшие:

А. в веке, являющимся позапрошлым по отношению к веку, когда произошли отражённые на схеме события.

Б. в веке, наступившем через один по отношению к веку, когда произошли отражённые на схеме события.

В. в том же веке, что и отражённые на схеме события.

Обратите внимание на то, что среди изображений присутствуют лишние.



5. 	6. 
7. 	8. 
9. 	10. 

Ответ:

А		Б		В	
4	7	2	10	5	6

За каждый верный выбор – 1 балл. За каждый неверный – штраф 1 балл, но не менее 0 баллов за задание. Максимум за задание – 6 баллов.

4.3. Выберите фрагменты исторических источников, в которых отражены события, произошедшие в разные периоды истории в городе, обозначенном на схеме цифрой 3.

1. Крикнул орёл белой славной,
Воюет Царь православной,
Царь Алексей Михайлович,
Восточного царствия дедич.
Идёт Литвы воевати,
Свою землю очищати;

Боярина шлёт думного,
Польской мовы разумного,
Бо до славной горы Девичи
Идёт Илья Данилович
До Смоленска города,
Чтоб без крови была згода,
Смело идёт царя славить,
За царя перси стравить...

2. Обстоятельная реляция о главной баталии, меж войск его царского величества российского и королевского величества швейцарского. Сего месяца 20 дня, перешла вся наша армия через Ворсклу и по ту сторону оной с малую милю от неприятельской армии, стали. Потом же, 24 числа, пошли далее со всею армией и стали с четверть мили от неприятеля и да бы оной на нас нечаянно не напал, учинили около обозу укрепление. Наша же кавалерия, на правой руке между лесов поставлена была и пред оною несколько редутов сделано. И людьми, и пушками осажены (над которыми командовал бригадир Августов). А в 25 и в 26 день, рекогносцировать оную ситуацию и неприятельской лагерь изволил его царское величество и всякое приготовление чинить к нападению на неприятеля. Однако оной по своей обыкновенной запальчивой отваге, в том нас предупредил. И 27 числа поутру, весьма рано, почитай при бывшей ещё темноте из проходов, в которых неприятель, во всю ночь своё всё войско в строю поставленное имел на нашу кавалерию, как конницею, так и пехотою своею, с такою фуриею напал, чтоб конечно не точию конницу нашу разорить, но и редуты все овладеть.

3. Когда по указу великого государя Пётр Васильевич Шереметев прислан был воеводою, и как в то ж время враги креста святого и его царского пресветлого величества около Киева все дороги и пути людьми своими позалегли, а нам и за десять вёрст выехать было не мочно добыта хлеба. Кроме того, у ково было в запасе, и в то время Пётр Васильевич Шереметев, ведая у всякого из нас, верных подданных его царского пресветлого величества, о хлебе и о водяных судах велел для ратных его царского пресветлого величества людей отбирати и взаим имать всякой хлеб, рожь и деньги.

4. Когда наши проходили город после очищения его неприятелем, все граждане сбежались на её встречу. По свидетельству очевидцев, не оставалось никого в домах. Икона была поставлена на площади, и над трупами своих братьев, на развалинах своего города смоляне служили пред нею молебн. Не столько было промолвлено слов молитвы, сколько пролито слёз. Когда за чтением Евангелия священник произнёс: «Пребысть же Мариам с нею яко три месяцы и возвратися в дом свой», – все невольно переглянулись: икона, взятая в наш лагерь 5 августа, возвращалась назад через три месяца изо дня в день.

5. Мы никуда не могли отсюда убежать, так как у нас не было никаких связей, мы попытались сами. Брат взял велосипед, мы погрузили свои вещи и пошли по шоссе на Могилёв. Шли-шли, бомбили... По обочинам валялись трупы лошадей убитых, людей... Было очень страшно. Мы шли-шли, пока навстречу нам не пришли немцы. Ну вот, когда уже нам сказали, что в городе немцы, мы повернули обратно. Пришли к себе, наша квартира была не разграблена.

В конце июня никто не ожидал, что всё произойдёт так быстро. Быстрое продвижение немецких войск не позволило провести эвакуацию. Определённая часть людей выехала на восток, но большая всё-таки осталась. Организованно пытались вывозить промышленные предприятия, станки, хотя много тоже вывезти не успели. Здесь же находились и склады, и магазины. И это время – пока в город не вошли немцы – это был период, когда каждый мог взять себе со склада еды. Кто-то взял муки, кто-то соли, кто-то гороха.

6. На другой день великий князь послал в город воевод своих, князя Данила Щеню с товарищами, дьяков и подьячих, велел им переписать всех жителей и привести к присяге – быть за великим князем и добра ему хотеть, за короля не думать и добра ему не хотеть; перепись и привод к присяге кончились 31 июля. 1 августа после водосвящения Василий вступил торжественно, за крестами в город вместе с владыкою и был встречен всем народом; после молебна и многолетия в соборной церкви владыка сказал ему: «Божиею милостию радуйся и здравствуй, православный царь Василий, великий князь всея Руси, самодержец, на своей отчине на многие лета!» Принявши поздравление от братьев, бояр и воевод, Василий слушал литургию, после чего отправился на княжеский двор и сел на своём месте; тут снова бояре и воеводы московские и знатные горожане подходили к нему по чину с обычными приветствиями; великий князь спросил их о здоровье и велел сесть. Князьям, боярам и мещанам Василий объявил своё жалованье, уставную грамоту, назначил им в наместники боярина князя Василия Васильевича Шуйского и позвал их обедать, после чего каждый получил дары.

7. В воскресный день после утреннего пения пономарь Иринарх сел отдохнуть и забылся сном. И вдруг он видит, что в келью его вошёл великий чудотворец Сергей и слышит, как тот говорит ему: «Скажи, брат, воеводам и ратным людям: сейчас к Пивному двору будет очень тяжёлый приступ, они же да не ослабевают, но с надеждою дерзают». И он видел святого, ходившего по крепости и по службам, кропившего святой водой монастырские строения. После предупреждения чудотворца, с воскресенья на понедельник в третьем часу ночи, когда никто не ожидал, загремело множество орудий, и многочисленное воинство литвы с громким криком со всех сторон устремилось к крепостным стенам.

8. В Красном Селе я прожил месяца полтора. Как скоро пришло известие, что французы из города вышли, младший зять тотчас туда отправился на рекогносцировку и на четвёртый день привёз весть, что отец мой жив, но ранен и что дом старшего зятя, находившийся на Лубянке, цел; следовательно, есть где приютиться. На другой день по приезде зятя мы все, кроме сестёр и их детей, пустились в город на пепелище, запасшись всякой провизией; приехали на четвёртый день вечером; была страшная вьюга; в доме зятя пристать оказалось нельзя: окна все перебиты, и комнаты занесены снегом. К счастью, скоро сыскали приют во дворе у соседа; дали нам небольшую комнату, хотя совсем нетопленную, но по крайней мере со стёклами и с печкою. Тут мы поселились, затопили печь, нагрели кушанья, поужинали, легли спать и чуть-чуть не переугорели.

Ответ: 1, 4, 6.

За каждый верный выбор – 2 балла, штраф за каждый неверный выбор – 2 балла. При выборе больше 5 фрагментов – 0 баллов. Максимум за задание – 6 баллов.

4.4. Выберите верные утверждения.

1. События, представленные на схеме, были первой попыткой России поставить под контроль город, обозначенный на схеме цифрой 2, в веке, к которому относится царствование правителя, обозначенного в задании 4.1 буквой Б.
2. Деревня, в которой было подписано завершившее представленную на схеме войну перемирие, к началу войны находилась в составе Швеции.
3. Главой Посольского приказа в период, когда происходили представленные на схеме события, был А. Л. Ордин-Нащокин.
4. Событие, положившее конец зависимости Московского государства от Орды, произошло в месте, отмеченном на схеме цифрой 1.
5. События, представленные на схеме, завершились из-за восстания Степана Разина.
6. На схеме обозначен город, который был столицей Великого княжества Литовского во время событий, представленных на схеме.
7. На схеме обозначен город, со взятием которого завершилось восстание Ивана Болотникова.
8. В ходе событий, представленных на схеме, правителем государства, являвшегося противником России, был Стефан Баторий.

Ответ: 1, 3, 6, 7.

За каждый верный выбор – 3 балла, штраф за каждый неверный выбор – 3 балла. При выборе больше 6 утверждений – 0 баллов. Максимум за задание – 12 баллов.

4.5. Сопоставьте статистические показатели с соответствующими им числовыми значениями.

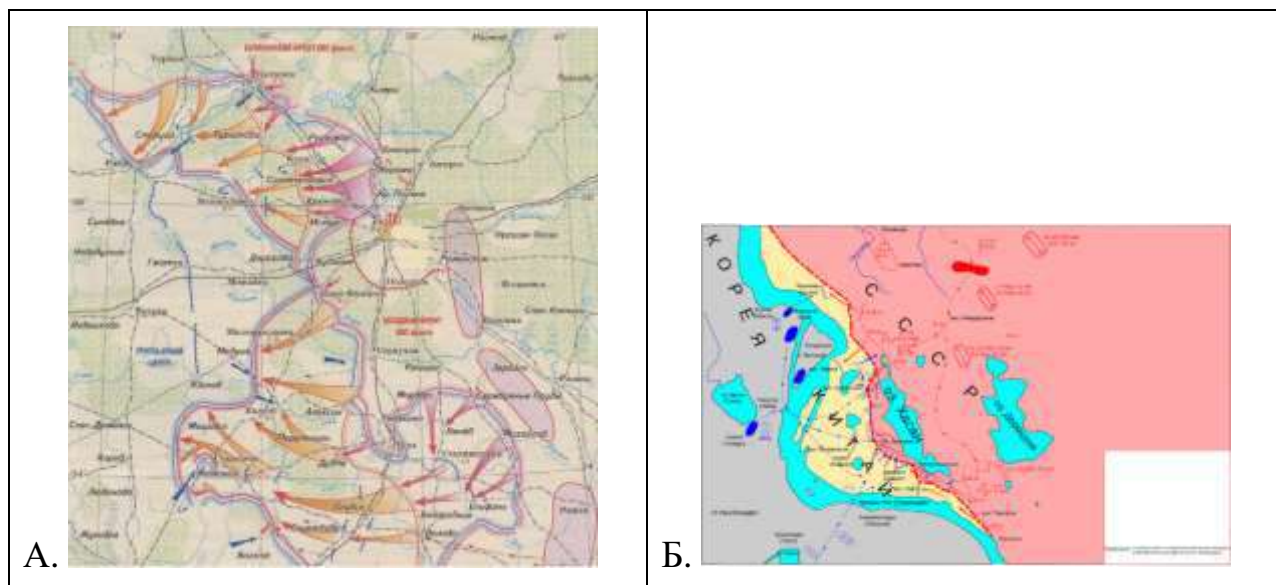
- 1) Количество статей Соборного уложения
 - 2) Длительность войны, события которой отражены на схеме, годы
 - 3) Возраст начала службы дворянина
 - 4) Длительность работы комиссии по разработке Соборного уложения, месяцы
 - 5) Расстояние от Москвы до города, обозначенного на схеме цифрой 3, км
- Числовые значения: 7, 13, 15, 369, 968.

Ответ:

1	968
2	13
3	15
4	7
5	369

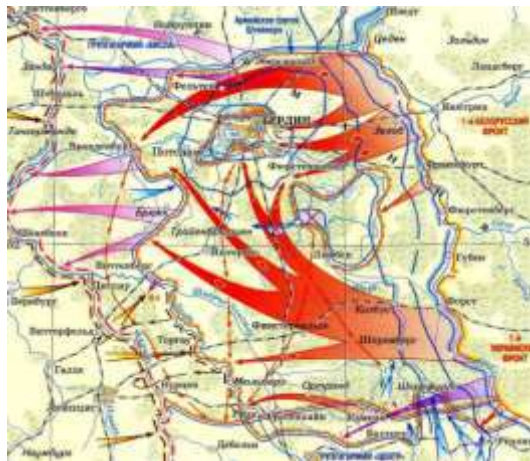
За каждое верное соотнесение – 2 балла. Максимум за задание – 10 баллов.

5 (19). Вам предлагаются схемы сражений, происходивших в разные периоды времени. Выберите из них те, которые относятся к Великой Отечественной войне.





В.



Г.



Д.











Е.

Ответ: А, В, Г.

За каждый верный выбор – 2 балла, штраф за каждый неверный выбор – 2 балла. При выборе больше 4 схем – 0 баллов. Максимум за задание – 6 баллов.

6 (20). Установите соответствие между предложенными изображениями и историческими периодами, реалии которых они отражают. Среди изображений есть лишние.

1. 	2. 
3. 	4. 
5. 	6. 
7. 	8. 

Ответ.

2-я половина XIX в.		1900–1939		1941–1945	
3	6	4	8	1	5

За каждое верное соотнесение – 1 балл. Максимум за задание – 6 баллов.

7 (21). Установите соответствие между фрагментами исторических источников и приведёнными суждениями: к каждому фрагменту подберите по три соответствующих суждения, номера этих суждений выберите по возрастанию. Обратите внимание на то, что среди суждений есть лишние.

А) Также следует принимать как данность постоянство ошибок во вскрытии ближайших и долгосрочных планов противника. Академическое сообщество имело возможность неоднократно убедиться в ограниченности возможностей разведки. Сплошь и рядом допускались ошибки и просчёты. Это и запоздалое вскрытие появления на фронте 39-го танкового корпуса, и недооценка красногвардейского направления в августе 1941 г., и многое другое. Однако нельзя не признать, что они были объективно обусловлены. Их нельзя назвать в качестве однозначного промаха штаба фронта. Такие ошибки были типичными для войны, причём для обеих сторон. Опять же, безошибочность ведения операций кем-либо является однозначной утопией. Ошибки допускают все. Даже в успешных операциях обеих сторон можно найти промахи и шероховатости.

Б) Газета «Правда», «Отстоим родную Москву!»

Положение на фронтах продолжает оставаться напряжённым. Фронт приближается к Москве. В связи с создавшейся обстановкой часть Советского Правительства и ряд наркоматов временно переведены из Москвы в г. Куйбышев. Необходимо было перевести часть центральных учреждений и наркоматов в более глубокий тыл для того, чтобы с ещё большей энергией продолжать и развёртывать работу по организации сопротивления вражескому нашествию, чтобы организовать и использовать все людские и материальные резервы страны для дальнейшей борьбы против немецких захватчиков. Государственный Комитет Обороны во главе с товарищем Сталиным находится в Москве, руководя всей работой по обороне нашей страны. Это сообщение вдохновляет защитников Москвы на новые славные подвиги. Враг скоро почувствует всю силу отпора боевых защитников Москвы.

В) В воздухе над Сталинградом снова появились фашистские самолёты. Они разворачивались над Волгой для пикирования и стройными вереницами ныряли в гущу дыма над заводом «Красный Октябрь». Потом бомбы полетели на Мамаев курган, территорию мясокомбината и льдохранилища. С каждой минутой гул от разрывов бомб, снарядов и мин нарастал. Под прикрытием огневого вала свежие силы немцев занимали исходный рубеж для новой атаки

по оврагу. Было видно, как густо заполнялись солдатами траншеи и развалины. Сколько их там – определить трудно. Одно для нас ясно: сколько бы ни было – надо их во что бы то ни стало задержать, уничтожить, не пустить к берегу Волги!

Мы уже не могли оставаться просто наблюдателями. Бросились с Виктором к позициям своих рот.

Утром следующего дня фашисты опять поднялись и двинулись по оврагу. Но наша артиллерия, особенно «катюши», засыпала овраг снарядами. Сколько немцев там легло – трудно сосчитать.

Г) 4. Этот акт военной капитуляции не будет являться препятствием к замене его другим генеральным документом о капитуляции, заключённым Объединёнными Нациями или от их имени, применимым к Германии и германским вооружённым силам в целом.

5. В случае, если Германское Верховное Командование или какие-либо вооружённые силы, находящиеся под его командованием, не будут действовать в соответствии с этим Актом о капитуляции, Верховный Главнокомандующий Союзными Экспедиционными Силами, а также Советское Верховное Командование предпримут такие карательные меры, или другие действия, которые они сочтут необходимыми.

Д) Бывший командующий 6-й немецкой армией генерал-полковник танковых войск, ныне – генерал-фельдмаршал Паулюс, и начальник штаба 6-й немецкой армии, генерал-майор Шмидт, со своим штабом сдались нашим войскам в плен в 15:00 31 января, прибыли в штаб 64-й Армии, откуда направляются в штаб данного фронта. Боевые действия Южной группы прекратились, производится её приём в плен. Паулюс отказался дать приказ Северной группе о прекращении боевых действий, мотивируя тем, что он ею не командует. Северная группа войск противника продолжает оказывать упорное сопротивление.

1. В источнике упоминается высший орган государственной власти в СССР в период войны.

2. Автор источника указывает на неизбежность сложившегося положения на фронте.

3. В источнике упоминается географический объект, за который развернулись ожесточённые бои осенью 1942 года.

4. Источник, фрагмент которого приводится, относится к такому виду источников, как международные акты.

5. Автор источника описывает продолжающиеся бои, ведущиеся в черте города.

6. Данный источник создан с целью прекращения боевых действий между Германией и Союзниками.

7. В источнике упоминается город, носящий ныне название Самара.

8. Автор источника возлагает всю ответственность за поражение на советских военачальников.
9. Автор источника преследует цель максимально точно и кратко описать недавно произошедшие события.
10. Источник, фрагмент которого приводится, относится к такому виду личных источников, как мемуаристика.
11. В источнике упоминается народный комиссар иностранных дел в годы войны.
12. В источнике упоминается о наличии ошибок в немецком планировании операций.
13. Источник, фрагмент которого приводится, создан с целью воздействия на морально-психологическое состояние участников описываемых событий.
14. Автор источника негативно отзываясь о состоянии вооружения красноармейцев.
15. В источнике упоминается немецкий военачальник, сдавшийся в плен советским войскам.
16. В источнике содержится ретроспективная оценка действий одного из советских фронтов.
17. Автор источника указывает на необходимость изменения всей тактики Красной армии.
18. В источнике отражены события, происходившие в 1945 году.
19. В источнике отражены события, происходившие в 1943 году.
20. В источнике отражены события, происходившие в 1944 году.

Ответ.

А	Б	В	Г	Д
2, 12, 16	1, 7, 13	3, 5, 10	4, 6, 18	9, 15, 19

За каждый верный выбор – 1 балл. При выборе более 3 суждений – 0 баллов. Максимум за задание – 15 баллов.

8 (22). Подберите к каждому из предложенных ниже высказываний историков наиболее полный и корректный вариант исследовательской проблемы, решению которой посвящено данное высказывание.

А) «Монгольское вторжение способствовало процессу формирования полицентричной государственной структуры Руси, что усиливалось из-за разорительных походов, экономической эксплуатации и политического контроля над русскими землями со стороны Золотой Орды» (А. А. Горский).

Б) «Основное содержание внутренней политики, проводимой сперва Верховным тайным советом, а затем Кабинетом министров, в значительной степени определялось кризисным состоянием бюджета страны после смерти Петра I» (А. Б. Каменский).

В) «Истоки поражения немцев под стенами Москвы следует искать как в боевых качествах Красной армии, так и в состоянии германской армии к ноябрю месяцу, так и в механизмах принятия решений немецким командованием – лишь с учётом всего перечисленного можно объяснить разгром врага, произошедший под стенами столицы» (М. Ю. Мягков).

1. Отношения русских князей с Ордой в конце XIII–XIV вв.
2. Методы реализации государственной властью внутривластного курса Российской империи в эпоху дворцовых переворотов.
3. Историческое и политическое значение битвы за Москву.
4. Факторы поражения вермахта в Московской битве.
5. Причины и последствия поражения русских земель в ходе монгольского нашествия.
6. Влияние бюджетной ситуации конца первой четверти XVIII в. на внутривластный курс высших государственных органов России XVIII в.
7. Эволюция механизма принятия решений немецкого командования в ходе первого периода битвы за Москву.
8. Влияние монгольского нашествия и Золотой Орды на политическую систему русских земель.
9. Оценка финансового положения России в первой половине XVIII в.

Ответ:

А	Б	В
8	6	4

За каждый верный выбор – 3 балла. Максимум за задание – 9 баллов.

Максимальный балл за работу – 100.