

Инструкция по заполнению листа ответов тестового тура

1. Листы с тестовыми заданиями остаются у участников, их можно использовать в качестве черновиков.
2. В листе ответов каждому вопросу соответствует поле для ответа. Необходимо вписать в поле **ТОЛЬКО ОДИН** вариант ответа (А – Г), который вы считаете правильным.
3. Исправления в листе ответов **НЕДОПУСТИМЫ**. Ответы, где есть исправления не рассматриваются и не оцениваются.
4. За правильный ответ на один вопрос начисляется **1 балл**. Максимальная оценка – **30 баллов**.

1. Администрация какого российского национального парка расположена в посёлке, названном в честь известного путешественника и географа Н.М. Пржевальского?

- | | |
|---------------|------------------------|
| А. Алханай | В. Смоленское поозерье |
| Б. Валдайский | Г. Чикой |

2. В каком субъекте РФ располагается потухший вулкан Перетолчина, который относится к району плейстоценового вулканизма (на фото)?

- А. Пермский край
- Б. Республика Бурятия
- В. Республика Северная Осетия
- Г. Сахалинская область



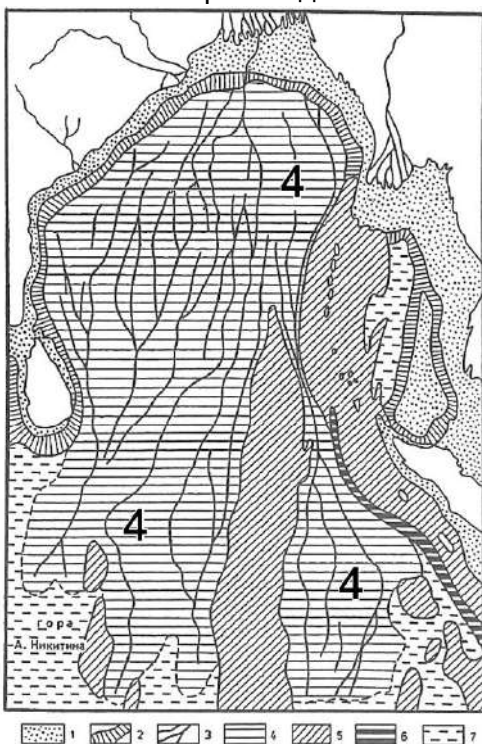
3. К какому центру происхождения культурных растений относится киви?

- | | |
|----------------------|---------------------------|
| А. Абиссинский | В. Средиземноморский |
| Б. Восточноазиатский | Г. Центральноамериканский |

4. В каком субъекте Российской Федерации располагается самый молодой город России (по времени получения статуса города)?

- | | |
|--------------------------|-------------------------|
| А. Ленинградская область | В. Республика Татарстан |
| Б. Краснодарский край | Г. Чеченская республика |

5. Какой элемент морского дна показан на схеме Бенгальского залива цифрой 4?



- А. Глубоководный конус выноса
- Б. Зона изостатического поднятия дна
- В. Ложе океана
- Г. Сейсмоактивная зона на границе литосферных плит

6. Какое происхождение имеет озеро Эйсселмер?

- А. Антропогенное
- Б. Астроблемное
- В. Тектоническое
- Г. Термокарстовое

7. Что изображено на снимке?



- А. Ватты
- Б. Котловины выдувания
- В. Марши
- Г. Полигональное растрескивание грунтов

8. Какой вид млекопитающих на территории России относится к интродуцированным?

- А. Выхухоль
- Б. Камчатский бобр
- В. Ондатра
- Г. Речной бобр

9. Какой процесс является ведущим в изменении ландшафта в пределах одной территории, изображённой на двух космических снимках за разные даты?

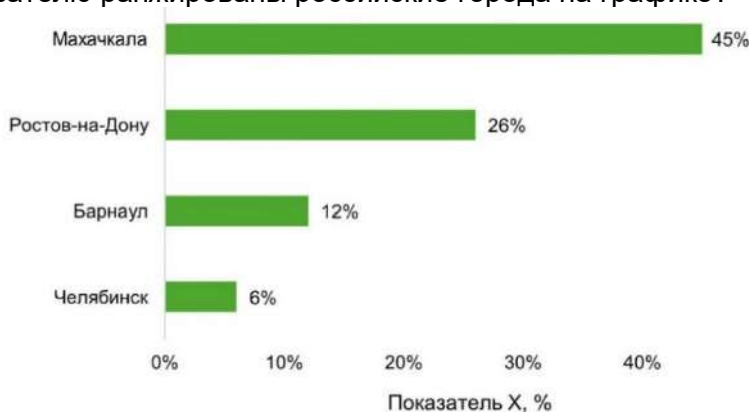


- А. Заболачивание
- Б. Карст
- В. Перевыпас скота
- Г. Солифлюкция

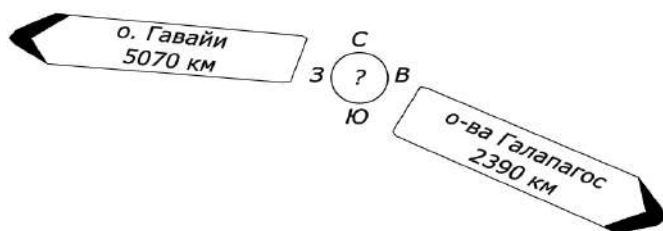
10. Для какого природного комплекса характерны краснозёмы и желтозёмы?

- А. Азональные мангровые леса тропического и субтропического поясов
- Б. Жестколистные кустарники субтропического пояса
- В. Муссонные вечнозелёные и листопадные леса тропического и субтропического поясов
- Г. Полупустынные ландшафты тропического пояса

11. Какой показатель необходимо включить в формулу расчёта уклона реки, помимо её длины?
 А. Падение реки
 Б. Скорость течения реки
 В. Средняя площадь сечения русла реки
 Г. Ширина русла реки
12. Какой из городов, которые недавно стали или станут в ближайшее время столицами государств, расположен выше других над уровнем моря?
 А. Гитега
 Б. Нгерулмуд
 В. Нейпидо
 Г. Нусантара
13. Какое государство полностью расположено в пределах умеренного пояса освещённости?
 А. Маврикий
 Б. Мексика
 В. Тонга
 Г. Эсватини
14. По какому показателю ранжированы российские города на графике?



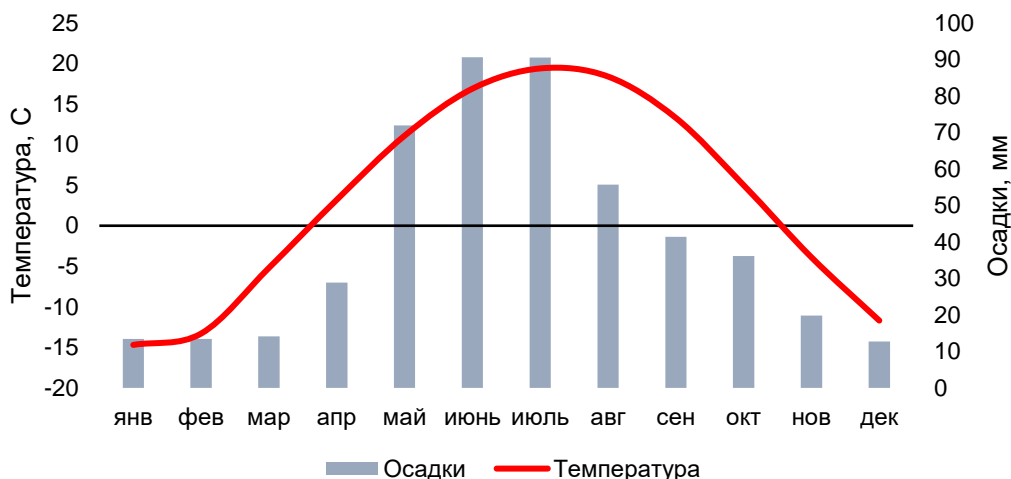
- А. Доля пенсионеров
 Б. Доля проживающих в индивидуальных домах
 В. Доля родившихся за границей
 Г. Доля школьников, изучающих немецкий язык
15. Какого административно-территориального образования никогда НЕ было на территории современной ЮАР?
 А. Бечуаналенд
 Б. КваЗулу
 В. Оранжевая Республика
 Г. Трансвааль
16. Какой остров обозначен знаком вопроса на рисунке?



- А. Клиппертон
 Б. Мартиника
 В. Пасхи
 Г. Питкэрн

17. Какое из этих государств имеет только один официальный язык?
 А. Камерун
 Б. Лихтенштейн
 В. Фиджи
 Г. Финляндия
18. Как называются океанические виды животных и растений с узкой экологической толерантностью к глубинам?
 А. Стенобаты
 Б. Стеногалы
 В. Стеногигробионты
 Г. Эвригигробионты
19. Когда территория полуострова Индостан стала частью Евразии?
 А. 65 тыс. лет назад
 Б. 650 тыс. лет назад
 В. 65 млн лет назад
 Г. 650 млн лет назад

20. Климатограмма географического центра какой части света (или материка) представлена перед вами?



- А. Азия
- Б. Европа
- В. Северная Америка
- Г. Южная Америка

21. Какой из нынешних субъектов Российской Федерации до 1948 г. назывался Ойротской автономной областью?

- А. Республика Алтай
- Б. Республика Бурятия
- В. Республика Тыва
- Г. Республика Хакасия

22. Какое явление изображено на фотографии с длинной экспозицией?



- А. Красные спрайты
- Б. Метеоры
- В. Огни святого Эльма
- Г. Северное сияние

23. Кто основал столицу Русской Америки – город Новоархангельск?

- А. Александр Баранов
- Б. Алексей Чириков
- В. Витус Беринг
- Г. Михаил Лазарев

24. На территории какой из перечисленных стран присутствуют степи?

- А. Венгрия
- Б. Либерия
- В. Малайзия
- Г. Панама

25. По выращиванию какой культуры в России лидирует регион, в котором располагается железнодорожная станция, юридически принадлежащая другому государству?

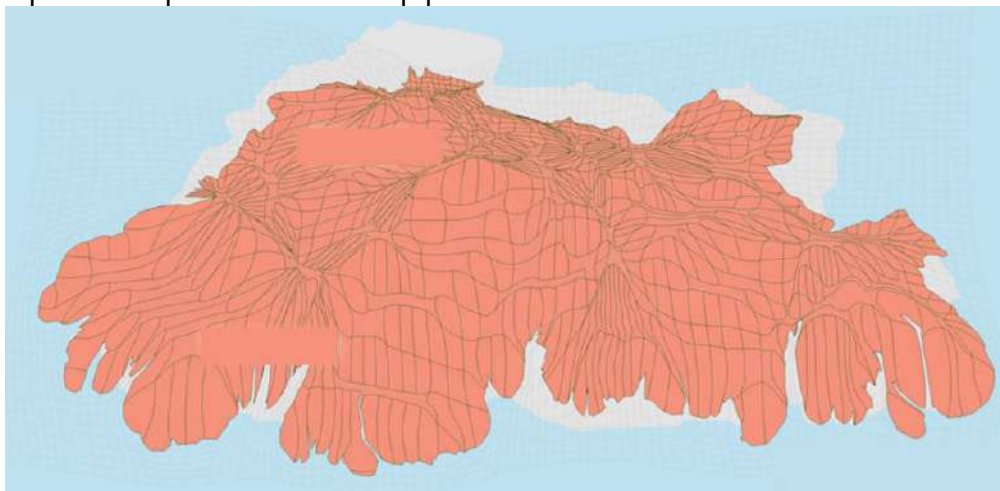
- А. Арбуз
- Б. Гречиха
- В. Соя
- Г. Ячмень

26. Добыча какого минерального ресурса изображена на снимке?



- А. Битумизных песков в Канаде
- Б. Лития в Боливии
- В. Ниобия в Бразилии
- Г. Угля в Коми

27. Какая страна изображена на анаморфозе по численности населения?



- А. Австрия
- Б. Бутан
- В. Россия
- Г. Швейцария

28. Расселение какого народа по субъектам РФ (по Всероссийской переписи населения 2021 года) представлено в таблице?

Субъект РФ	Доля от общей численности народа в России, %
Республика Дагестан	24,6
Москва	7,9
ХМАО-Югра	4,5
Московская область	4,5
Санкт-Петербург	3,5

- А. Азербайджанцы
 - Б. Армяне
 - В. Грузины
 - Г. Турки-месхетинцы
29. Столица какой страны находится на берегу моря?
- А. Кения
 - Б. Мозамбик
 - В. Намибия
 - Г. Танзания
30. Где доля электроэнергии, вырабатываемой на геотермальных источниках, превышает 10%?
- А. Кыргызстан
 - Б. Новая Зеландия
 - В. Парагвай
 - Г. Словакия