

**ВСЕРОССИЙСКАЯ ОЛИМПИАДА ШКОЛЬНИКОВ****2021–2022 уч. г.****Пригласительный этап.****Обществознание. 6 класс.**

<b>№ задания</b>	<b>Тип задания</b>	<b>Критерии</b>
1	Выбрать несколько ответов	За каждый правильный ответ – 1 балл. За каждый неправильный – штраф 1 балл. Если выбрано больше 3 утверждений, то 0 баллов. Максимум за задание – 2 балла.
2	Установить соответствия	По 1 баллу за каждую верную пару, штраф за каждую неверную пару – 1 балл. Максимум за задание – 9 баллов.
3-4	Выбрать один ответ	Максимум за каждое задание – 3 балла.
5	Выбрать один ответ	Максимум за задание – 2 балла.
	Краткий ответ	Максимум за задание – 2 балла.
	Краткий ответ	Максимум за задание – 2 балла.
6	Выбрать один ответ	Максимум за задание – 1 балл.
7	Выбрать несколько ответов	За каждый правильный ответ – 1 балл. За каждый неправильный – штраф 1 балл. Если выбрано больше 6 утверждений, то 0 баллов. Максимум за задание – 4 балла.
8	Установить соответствия	По 1 баллу за каждую верную пару. Максимум за задание – 5 баллов.
9-18	Краткий ответ	Максимум за каждое задание - 1 балл.

**Максимум за работу – 43 балла.**

# Пригласительный (пробный) этап ВсОШ в городе Москве, обществознание, 6 класс, 2022

20 май 2022 г., 08:45 – 21 май 2022 г., 21:15

№ 1

---

2 балла









Выберите верные утверждения

- Многопоколенную семью относят к большим социальным группам.
- Ключевым элементом демократии в древнегреческих полисах было тайное голосование.
- Пост Президента России возник до принятия Конституции 1993 года.
- Крупная сеть супермаркетов обычно получает основную часть прибыли за счёт розничной торговли.
- Если неверно что «и Вася, и Петя любят футбол», то можно точно сказать, что они оба не любят футбол.



9 баллов

Приведённые ниже изображения связаны с различными религиями.

А 	Б 
В 	
Г 	Д 
Е 	
Ж 	З 





Установите соответствие между изображением и религией, к которой оно относится.

А		ислам
Б		
В		
Г		буддизм
Д		
Е		христианство
Ж		
З		
И		

The diagram shows a matching exercise. On the left, there are eight boxes labeled with Cyrillic letters: А, Б, В, Г, Д, Е, Ж, З, and И. On the right, there are three boxes representing religions: ислам (Islam), буддизм (Buddhism), and христианство (Christianity). Colored lines connect the boxes to the religion boxes: A (green) connects to ислам; Б (green) connects to буддизм; В (yellow) connects to ислам; Г (yellow) connects to буддизм; Д (orange) connects to христианство; Е (orange) connects to христианство; Ж (purple) connects to христианство; З (blue) connects to христианство; И (blue) connects to христианство.

№ 3 – 4

3 балла

Решите логическую задачу.

Идя в гости к своей бабушке, Маша, Коля и Вася решили выяснить, кто из них самый высокий. Коля радостно заявил: «Я выше всех!» Вася возразил: «Между прочим, нет никого, кто был бы выше меня». Соседский мальчик Толя, проходивший мимо, громко крикнул вслед: «А Коля выше Васи!» Маша грустно заметила: «И Коля, и Толя – врунишки!»

Не решив свой спор, ребята рассказали всю историю бабушке. Та, послушав их, печально вздохнула: «Из четырёх детей трое соврали. Ну разве так можно?» Считая, что словам бабушки можно верить, ответьте на вопросы ниже.

Кто из четырёх детей сказал правду?

Маша

Коля

Вася

Толя

3 балла

Кто из трёх детей самый высокий?

Вася

Маша

Коля

## № 5

6 баллов

Решите экономическую задачу.

Безумный Шляпник планирует организовать чаепитие. Помимо него самого приглашены Мартовский Заяц, Алиса, Чеширский Кот и Красная Королева. На каждого участника чаепития нужно приготовить 100 грамм чая и пирожное. В Зазеркалье всего два магазина: одним владеет Гусеница, а другим — Додо. В магазине Гусеницы одно пирожное стоит 11 монет, а килограмм чая — 50 монет. В магазине Додо чай продают по 60 монет за килограмм, а пирожные — по 10 за штуку. Магазин Гусеницы расположен далеко, и придётся заплатить за доставку 10 золотых монет, но Гусеница — хорошая подруга Шляпника и сделает скидку в размере 10 % на сумму покупки (но не доставки).

Помогите Шляпнику.

1. Укажите, в каком магазине выгоднее купить всё для чаепития.

- В магазине Гусеницы  В магазине Додо

2. Укажите одним числом, сколько монет он сэкономит.

3. Укажите одним числом сумму, которую он потратит.

## № 6

1 балл

Решите правовую задачу.

Родители 14-летней Тани собирались проголосовать на выборах депутатов в Государственную Думу Федерального Собрания Российской Федерации. Таня попросила родителей пойти с ними и проголосовать. Однако родители отказали Тане, мотивировав отказ тем, что она несовершеннолетняя. Но Таня не согласилась с родителями, ведь у неё есть паспорт и она гражданка Российской Федерации. Права ли Таня?


да

нет

4 балла

Внимательно изучите предложенную инфографику и выберите верные утверждения из представленных ниже.

[Открыть инфографику в отдельном окне](#)



\* В 2014 году вопрос не задавался.

Какие качества, на ваш взгляд, наиболее присущи современной молодёжи?

Все качества молодёжи, представленные в инфографике, по мнению всех опрошенных, в 2017 г. стали более присущи молодёжи, чем в 2014 г.

В 2014 г. доля опрошенных в возрасте 60 лет и старше, считавших, что молодёжи присущи негативные качества, была выше, чем в 2017 г.

По мнению опрошенных в возрастных группах 18–24 года и старше 60 лет, в 2017 г. молодёжь стала больше ориентироваться на материальные ценности.

По мнению большинства опрошенных, три наиболее присущие молодежи черты в 2014 г. остались наиболее присущими и в 2017 г.

По мнению опрошенных в возрасте 18–24 года, молодёжь в 2017 г. стала менее активной, чем в 2014 г.

Старшее поколение склонно считать молодёжь более патриотичной, чем опрошенные других возрастов.

По мнению всех опрошенных, только две черты стали менее присущи молодёжи – расточительность и отзывчивость.

По мнению всех опрошенных, в 2017 г. молодёжь стала более открытой и дружелюбной, чем в 2014 г.



5 баллов

Прочитайте представленные отрывки и подберите к каждому отрывку название описываемого вида деятельности из приведённого ниже списка.

«– А кто такой Гудвин? – спросила Элли.  
– О, это самый великий мудрец нашей страны, – прошептала старушка. – Он могущественнее всех нас и живёт в Изумрудном городе.

– А он злой или добрый?

– Этого никто не знает. Но ты не бойся, разыщи три существа, исполни их заветные желания, и волшебник Изумрудного города поможет тебе вернуться в твою страну!

– Где Изумрудный город?

– Он в центре страны. Великий мудрец и волшебник Гудвин сам построил его и управляет им. Но он окружил себя необычайной таинственностью, и никто не видал его после постройки города, а она закончилась много-много лет назад.

– Как же я дойду до Изумрудного города?

– Дорога далека. Не везде страна хороша, как здесь. Есть тёмные леса со страшными зверями, есть быстрые реки – переправа через них опасна...»

учёба

игра

«Как и любой ученик, Электроник получал двойки. Никто его, конечно, не ругал за плохие ответы. Но всякий раз когда ученик ошибался, профессор нажимал кнопку, и внутри Электроника – в одной из схем машины – ослаблялась та связь, которая передала неправильную информацию. В другой раз сигнал бежал по верному пути, и Электроник уже не ошибался. Он был очень старательным учеником. После алфавита и цифр – картинки. Мужские, детские, женские лица, животные, автомобили, домашняя обстановка, школьные принадлежности... Тысячи и тысячи понятий запоминал ученик».

общение

«"С самого начала", – сказал Сайрес Смит. "Начало", которое он имел в виду, должно было заключаться в изготовлении орудия, способного преобразовывать естественную продукцию природы. Известно, какую роль играет тепло в этих преобразованиях. Топливо – дрова или каменный уголь – можно было использовать непосредственно. Оставалось, значит, построить печь для его использования».

«Подолгу наблюдал я оперированных животных у себя в лаборатории, стремясь выяснить, изучить, что происходит с органами, перенесёнными на новое, иногда необычное даже место. Когда мои наблюдения кончались, животное переселялось в сад. Так создавался у меня этот сад-музей. Особенно меня увлекла проблема обмена и пересадки тканей между далеко стоящими животными: например, между рыбами и млекопитающими, и наоборот. И здесь мне удалось достичь того, что учёные считают вообще невыполнимым. Что же тут необычного? То, что сделал я сегодня, завтра будут делать рядовые хирурги».


физический труд

«У Электроника такие простые вещи как-то не получаются. Позавчера, например, не было последнего урока и ребята повели Электроника играть в футбол. Поставили в ворота. А он, вместо того чтоб ловить мяч, стал писать на штанге формулы. Когда вратарь прозевал третий мяч, терпение команды лопнуло, и его выгнали из ворот. Хорошо, что Серёжка был дома и видел всё это из окна. Как только Электроник вошёл в дом, Серёжка сразу побежал на поле. Ох и разозлился он на Электроника! Пять голов подряд забил! Не посрамил своего доброго футбольного имени.»

умственный труд

1 балл

Решите обществоведческий кроссворд.

[Открыть кроссворд в новом окне](#)

### По горизонтали:

1. Всё в мире, что не создано человеком.

природа

1 балл

3. Поступательное движение вперёд, развитие, изменение от худшего к лучшему, от простого к сложному, от низшего к высшему.

прогресс

1 балл

4. Всенародное голосование по какому-либо важному государственному вопросу.

референдум



1 балл

5. Основной закон государства.

конституция

1 балл

8. Рационально организованная деятельность людей, направленная на создание товаров и услуг, удовлетворяющих человеческие потребности.

экономика

1 балл

9. Принятые в обществе правила поведения, основанные на представлениях о добре и зле.

мораль

1 балл

**По вертикали:**

2. Высший представительный и законодательный государственный орган многих государств.

парламент

1 балл

6. Человечность в общественной деятельности, в отношении к людям.

гуманизм

1 балл

7. Процесс усвоения культурных норм и освоения социальных ролей.

социализация

1 балл

9. Форма правления, при которой власть принадлежит одному человеку и передаётся по наследству.

монархия