

**ВСЕРОССИЙСКАЯ ОЛИМПИАДА ШКОЛЬНИКОВ ПО ОБЖ.
ПРИГЛАСИТЕЛЬНЫЙ ЭТАП. 2022 уч. г. 6–7 класс**

| Название части и № задания | Тип задания | Критерии |
|---|--------------------------|---|
| Тестовые задания Задания 1–10 | Выбор одного ответа | Максимальная оценка за задание – 2 балла |
| Тестовые задания Задания 1–10 | Выбор нескольких ответов | За каждый правильный ответ – 2 балла . Если выбрано более двух вариантов ответов, то 0 баллов . Максимальная оценка 4 балла |
| Теоретические задания Задание 1 | Точное совпадение ответа | За правильно составленное определение – 6 баллов . За правильно названный термин – 4 балла . Максимальная оценка 10 баллов |
| Задание 2 | Установить соответствие | За каждую верную пару – 2 балла Максимальная оценка 10 баллов |
| Задание 3 | Установить соответствие | За каждую верную пару – 1 балл . Максимальная оценка 10 баллов |
| Задание 4 | Выбор нескольких ответов | За каждый верно выбранный и верно невыбранный пункт – 1 балл . За невыбранный верный пункт либо за неверно (лишний) выбранный, вычитается 1 штрафной балл . Оценка не может быть ниже 0 баллов . Максимальная оценка 10 баллов |

Максимум за работу – 100.

Пригласительный (пробный) этап ВсОШ в городе Москве, ОБЖ, 6-7 класс, 2022

13 апр 2022 г., 08:45 — 14 апр 2022 г., 21:15

Тестовые задания

Определите один правильный ответ

За правильный ответ начисляется 2 балла

№ 1

2 балла

Чтобы облегчить распознавание дорожных знаков, они разделены на

12 групп

6 групп

8 групп

9 групп

№ 2

2 балла

Какое значение имеет визуальный сигнал «земля – воздух»?



«нужен врач – серьёзные телесные повреждения»

«двигаемся в этом направлении»

«положительно»

«не понял»

№ 3

2 балла

Отлогая сторона муравейника указывает направление на

восток

запад

север

юг

№ 4

2 балла

Ураган по шкале Бофорта соответствует

6 баллам

8 баллам

10 баллам

12 баллам

№ 5

2 балла

Как называется очень сильный порывистый холодный ветер в приморских районах, приводящий в зимнее время к обледенению портовых сооружений и кораблей?

бора

ураган

фен

мистраль

№ 6

2 балла

Верны ли утверждения?

При выборе СИЗОД необходимо учитывать

А. возможный уровень концентрации ОХВ в воздухе

Б. время защитного действия СИЗОД

верно только А

верно только Б

верны оба суждения

оба суждения неверны

№ 7

2 балла

Какими будут Ваши действия, если незнакомец просит Вас передать сумку кому-либо?

отказать и заняться своими делами

запомнить его приметы и сообщить в полицию

помочь человеку

взять сумку, предварительно проверив её содержимое

№ 8

2 балла

При частичном нарушении проходимости дыхательных путей, когда человек подавился, но может разговаривать, первую помощь рекомендуется начать с

нанесения 5 ударов между лопатками

предложения покашлять

выполнения приёма Геймлиха

предложения выпить тёплой воды

№ 9

2 балла

Оказание первой помощи необходимо начинать с

вызова скорой медицинской помощи

определения признаков жизни у пострадавшего

оценки обстановки и обеспечения безопасных условий для её оказания

выяснения обстоятельств травмы

№ 10

2 балла

Что НЕЛЬЗЯ делать при укусе гадюки?

накладывать на укушенную конечность жгут

предлагать обильное питьё

прикладывать к месту укуса холод

иммобилизовать конечность

Тестовые задания

Определите два правильных ответа

За каждый правильный ответ начисляется 2 балла

№ 1

4 балла

Выберите знаки, которые в совокупности означают «Место размещения нескольких средств противопожарной защиты находится наверху».



№ 2

4 балла

Какие растения можно использовать в качестве чая?

ясенец

листья малины

волчьи ягоды

листья вишни

борщевик

№ 3

4 балла

Отравление бытовым газом в квартире (доме) может произойти вследствие

- полного сгорания газа
- неполного сгорания газа
- повышенного содержания кислорода в воздухе
- утечки газа
- отсутствия в природном газе специальных примесей

№ 4

4 балла

В толпе рекомендуется руки держать

- перед грудью
- перед лицом
- выпрямленными в локтях
- согнутыми в локтях
- в карманах

№ 5

4 балла

К характеристикам, по которым оценивается землетрясение, относят

магнитуду

продолжительность

интенсивность

распространённость

частоту

№ 6

4 балла

В случае если горит торфяное поле (болото), то, выходя из пожара, необходимо

идти против ветра

идти по ветру

ощупывать дорогу шестом

двигаться перпендикулярно ветру

осторожно наступать на землю

№ 7

4 балла

В Главное управление по противодействию экстремизму МВД России Вы можете подать электронное заявление о

кибербуллинге

скулшутинге

суициде

клевете

незаконном обороте оружия

№ 8

4 балла

Какие состояния характеризуют малоподвижный образ жизни?

гиперактивность

гипотрофия

гипокинезия

гиперкинезия

гиподинамия

№ 9

4 балла

Какие из суждений о правилах наложения кровоостанавливающего жгута являются верными?

- жгут накладывается только при артериальном кровотечении
- жгут накладывается ниже раны, как можно ближе к ней
- на плечо жгут накладывается на среднюю и нижнюю треть
- на бедро жгут накладывается на среднюю и верхнюю треть
- каждый тур жгута накладывается с максимальным натяжением

№ 10

4 балла

Какие признаки характерны для ожога второй степени?





- отёк, покраснение
- наличие пузырей с прозрачным содержимым
- отсутствие чувствительности в месте повреждения
- обугливание кожи и подкожной клетчатки
- обугливание мягких тканей и частично костей

Теоретические задания

№ 1

10 баллов

Расположите предложенные фрагменты в верной последовательности, чтобы в итоге получилось определение.

| | | |
|---|---|---|
| удалённые от центра перекрёстка начала закруглений проезжих частей |  | 4 |
| разветвления дорог на одном уровне ограниченное воображаемыми линиями, |  | 2 |
| место пересечения, примыкания ил |  | 1 |
| соединяющими соответственно противоположные, наиболее |  | 3 |


Запишите термин, определение которому Вы составили.

Перекрёсток

№ 2

10 баллов

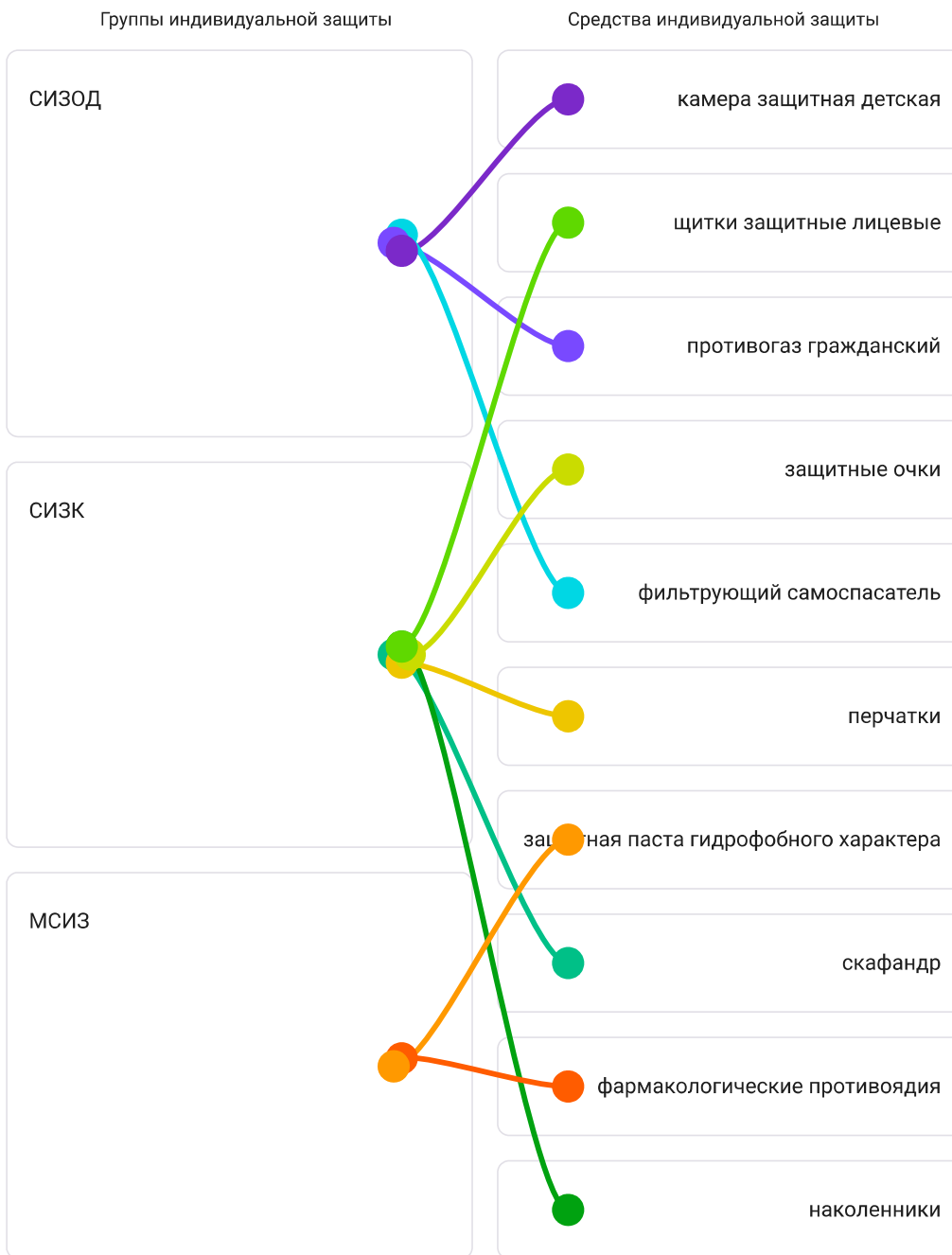
Каждый визуальный сигнал «поверхность – воздух», применяемый при поисково-спасательных операциях, имеет определённое значение. Установите соответствие между изображением сигнала и его значением.

| | | | |
|---|---|---|---|
|  |  |  | «Нужны пища и вода» |
|  |  |  | «Всё в порядке» |
|  |  |  | «Нужны сигнальная лампа с батареей и радиостанцией» |
|  |  |  | «Укажите направление следования» |
|  |  |  | «Да, или положительно» |
| | |  | «Требуются карта и компас» |
| | | | «Здесь можно безопасно совершить посадку» |

10 баллов

Средство индивидуальной защиты – средство индивидуального пользования для предотвращения или уменьшения воздействия на человека вредных и (или) опасных факторов, а также для защиты от загрязнения.

Распределите средства индивидуальной защиты по группам: средства индивидуальной защиты органов дыхания (СИЗОД); средства индивидуальной защиты кожи (СИЗК); медицинские средства индивидуальной защиты (МСИЗ).



10 баллов

Опасность артериального кровотечения связана с высокой скоростью кровопотери, которая в считанные минуты может привести к смерти пострадавшего, если первая помощь не будет оказана своевременно.

Выберите подручные средства, которые можно использовать для временной остановки артериального кровотечения.

**Брючный ремень****Электрический шнур от утюга****Галстук****Кусок плотной ткани****Кровоостанавливающий жгут**

Выберите средства, не являющиеся подручными, и те, которые нельзя использовать для остановки артериального кровотечения.

**Брючный ремень****Электрический шнур от утюга****Галстук**

Кусок плотной ткани

Кровоостанавливающий жгут