

ВСЕРОССИЙСКАЯ ОЛИМПИАДА ШКОЛЬНИКОВ
2021 уч. г.
Пригласительный этап.
История. 6 класс.

№ задания	Тип задания	Критерии
1-3	Выбрать один ответ	Максимум за задания – 3 балла.
4	Выбрать несколько ответов	За каждый правильный ответ – 1 балл. Если выбрано больше четырёх утверждений, то 0 баллов. Максимум за задание – 4 балла.
5	Выбрать один ответ	Максимум за задание – 1 балл.
6	Выбрать несколько ответов	За каждый правильный ответ – 1 балл. Если выбрано больше двух утверждений, то 0 баллов. Максимум за задание – 2 балла.
7	Выбрать один ответ	Максимум за задание – 11 баллов.
8	Выбрать один ответ	Максимум за задание – 5 баллов.

Максимум за работу – 26 баллов.

Пригласительный (пробный) этап ВсОШ в городе Москве, история, 6 класс, 2021

10:00—21:00 14 май 2021 г.

№ 1 — 4

1 балл

Рассмотрите изображение и выполните предложенные задания.

Уличный декор в одном из европейских городов



Укажите конфликт, с которым связан представленный на иллюстрации декор.

- Столетняя война
- Династическая война в Московском государстве
- Война между Йорками и Ланкастерами
- Реконкиста

1 балл

Выберите из списка страну, с историей которой связан этот конфликт.

Франция

Англия

Италия

Испания

Россия

1 балл

Выберите век, в котором произошёл этот конфликт.

XIII в.

XIV в.

XV в.

XVI в.

4 балла

Укажите не более четырёх событий, произошедших в том же веке, что и данный конфликт.

Куликовская битва

Сожжение Жанны Д'Арк

Изобретение книгопечатания Иоганном Гутенбергом

Начало Жакерии

Провозглашение Первого крестового похода

Хождение в Каноссу

Принятие христианства на Руси

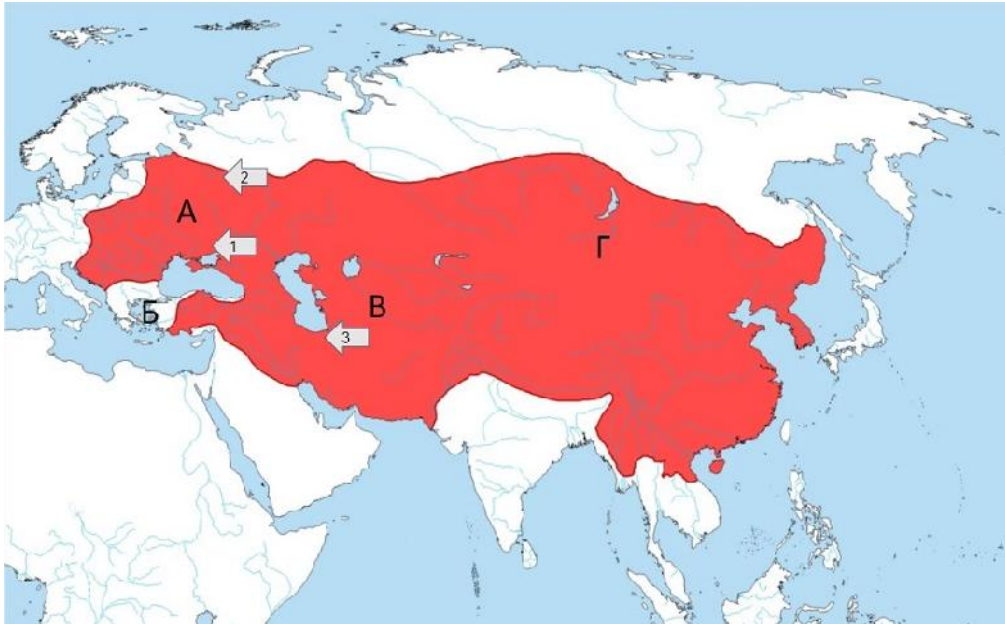
Провозглашение автокефалии Русской Православной церкви

Принятие Русской Правды

Казнь Яна Гуса

1 балл

Рассмотрите представленную схему и выполните задания.



Укажите век возникновения государства, завоевания которого достигли отражённых на схеме границ.

XI в.

XII в.

XIII в.

XIV в.

XV в.

2 балла

Выберите из списка имена двух правителей, с чьей деятельностью связано создание и расширение этого государства.

Аларих

Батый

Мурад I

Котян

Салах-ад-дин

Чингисхан

Мехмед II Завоеватель

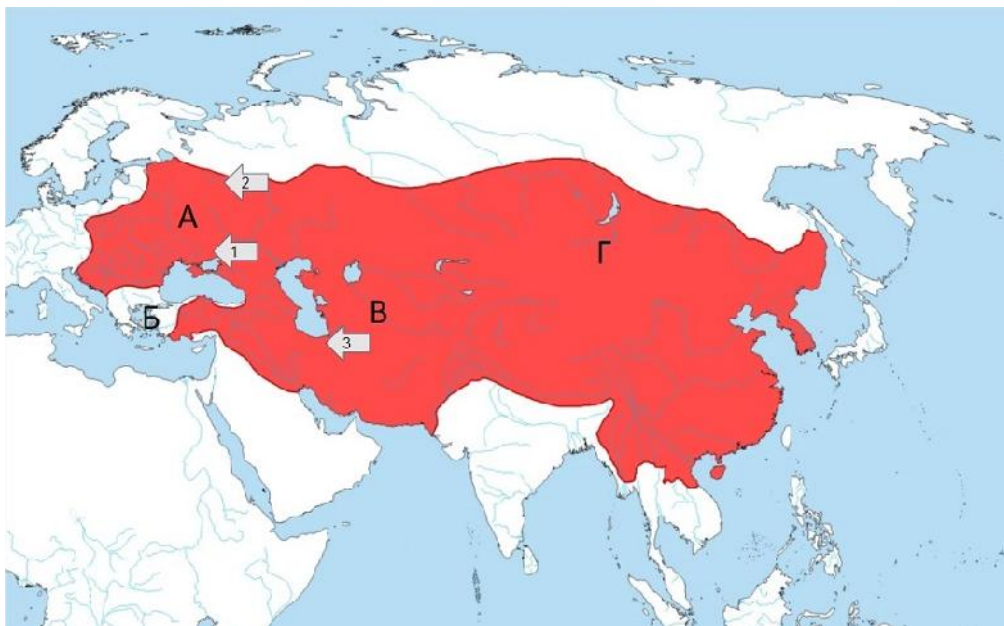
Харальд Синезубый

Пипин Короткий

Атилла

11 баллов

Заполните пропуски в тексте, выбирая из выпадающего списка верный вариант.



Русские князья впервые столкнулись с войсками государства, выделенного на схеме красным цветом, в 1223 году в ходе битвы **на реке Калке**, которая обозначена на схеме цифрой **1**.

Союзниками русских князей выступали **половцы**. В этой битве русские князья и их союзники потерпели поражение: погибли или оказались в плену более десятка князей, потери среди воинов точно оценить невозможно.

Спустя более десяти лет русские земли, обозначенные на схеме буквой **А**, подверглись вторжению крупных сил выделенного на схеме красным цветом государства. Первым из крупных древнерусских городов был взят и разорен город **Рязань**. Затем подошёл черёд одной из сильнейших земель Руси, чья столица **Владимир** также была сожжена, а великий князь погиб в битве **на реке Сить**, которая обозначена на схеме цифрой **2**. В течение следующих трёх лет завоеватели разорили княжества южной и юго-западной Руси.


Немногие земли избежали нашествия. Центром одной из них был **Новгород**. Однако его жителям пришлось столкнуться с другой проблемой: появлением на территории Прибалтики немецких **крестоносцев** и набегами **литовцев**, которые создали своё молодое государство.

5 баллов


Перед вами гравюры из первого иллюстрированного издания «Истории государства Российского» выдающегося русского историка Н.М. Карамзина. Внимательно рассмотрите каждое изображение и подберите к нему отрывок с соответствующим описанием.

[Открыть текст в отдельном окне](#)

Д




В



Б



А



Г

Отрывки:

А) Отправилась Ольга в Греческую землю и пришла к Царьграду. Был тогда цесарь Константин, сын Льва. И увидев, что она красива лицом и весьма умна, подивился цесарь её разуму, беседуя с нею, и сказал ей: «Достойна ты царствовать с нами в городе этом». Она же, поразмыслив, ответила цесарю: «Я язычница; если хочешь крестить меня, то крести меня сам – иначе не крещусь». И крестил её цесарь с патриархом.

Б) Преставился великий князь русский Ярослав. Ещё при жизни дал он наставление сыновьям своим, сказав им: «Вот я покидаю мир этот, а вы, сыновья мои, имейте любовь между собой... Вот я поручаю престол мой в Киеве старшему сыну моему и брату вашему Изяславу; слушайтесь его, как слушались меня, пусть будет он вам вместо меня; а Святославу даю Чернигов, а Всеволоду Переяславль, а Вячеславу Смоленск».

В) Выступил в поход Олег, взяв с собою много воинов своих: варягов, чудь, славян, мерю, весь, кривичей, и овладел городом Смоленском и посадил в нём своего мужа. Оттуда отправился вниз, и придя, взял Любеч, и также посадил мужа своего. И пришли к горам киевским, и увидел Олег, что княжат тут Аскольд и Дир, спрятал он воинов в ладьях, а других оставил позади, а сам приступил, неся отрока Игоря.

Г) На следующий день призвал Игорь послов и пришёл на холм, где стоял Перун; и сложили оружие своё, и щиты, и золото и присягали Игорь и мужи его – сколько было язычников между русскими. А христиан русских водили в церковь святого Ильи.

Д) Пришёл Святослав к порогам, и напал на него Куря, князь печенежский, и убили Святослава, и взяли голову его, и сделали чашу из черепа, оковав его, и пили из него. Свенельд же пришёл в Киев к Ярополку. А было всех лет княжения Святослава двадцать восемь.