

**ВСЕРОССИЙСКАЯ ОЛИМПИАДА ШКОЛЬНИКОВ
ПО ОБЖ 2020–2021 уч. г. ШКОЛЬНЫЙ ЭТАП
5–6 классы**

Тестовые задания

**Определите один правильный ответ
За правильный ответ начисляется 4 балла**

- 1 Мигание красных наддверных огней поезда метро означает**
 - 1) «посадка запрещена»
 - 2) «высадка запрещена»
 - 3) «посадка разрешена»
 - 4) «высадка разрешена»

- 2 Минимальная безопасная толщина льда при переходе через водоём одного человека должна составлять не менее**
 - 1) 12 см
 - 2) 7 см
 - 3) 5 см
 - 4) 15 см

- 3 Если Вы встанете лицом к Полярной звезде, то справа будет направление на**
 - 1) запад
 - 2) восток
 - 3) юг
 - 4) север

- 4 День пожарной охраны России отмечается**
 - 1) 27 декабря
 - 2) 30 апреля
 - 3) 4 октября
 - 4) 1 марта

- 5 Дезинсекция представляет собой**
 - 1) обезвреживание (нейтрализация, разбавление) или удаление опасных химических веществ с поверхностей
 - 2) удаление (снижение) радиоактивного загрязнения поверхностей
 - 3) удаление (снижение) бактериального загрязнения поверхностей
 - 4) удаление членистоногих с поверхностей

- 6 Верны ли утверждения?
Газопылезащитный респиратор предназначен для защиты органов дыхания от**
 - А. радиоактивных аэрозолей
 - Б. микробиологических аэрозолей, передающихся воздушно-капельным путём при эпидемиях и пандемиях
 - 1) верно только А
 - 2) верно только Б
 - 3) верны оба суждения
 - 4) оба суждения неверны

- 7 **Если Вы обнаружили бесхозный предмет в вагоне поезда метро, то необходимо незамедлительно связаться с**
- 1) полицейским
 - 2) машинистом
 - 3) дежурным по станции
 - 4) сотрудником МЧС
- 8 **Верны ли следующие суждения?**
Школьник правильно сидит за рабочим столом, если
- А. он сидит глубоко на стуле, ровно держит корпус и голову, ступни опираются на пол, угол сгибания в коленных и голеностопных суставах составляет около 90°
- Б. расстояние от его глаз до поверхности стола равняется длине предплечья от локтя до конца пальцев
- 1) верно только А
 - 2) верно только Б
 - 3) верны оба суждения
 - 4) оба суждения неверны
- 9 **Верны ли следующие суждения?**
Кровоостанавливающий жгут наложен правильно, если ниже места наложения жгута
- А. пульс отсутствует
- Б. конечность бледная
- 1) верно только А
 - 2) верно только Б
 - 3) верны оба суждения
 - 4) оба суждения неверны
- 10 **Верны ли следующие суждения?**
Бинтовая повязка накладывается на конечности, как правило,
- А. слева направо (по отношению к бинтующему)
- Б. от периферии к центру
- 1) верно только А
 - 2) верно только Б
 - 3) верны оба суждения
 - 4) оба суждения неверны

Определите два правильных ответа

За каждый правильный ответ начисляется **4 балла**

- 1 **Какой сигнальный цвет и какую геометрическую форму имеют знаки пожарной безопасности?**
 - 1) синий
 - 2) оранжевый
 - 3) квадрат
 - 4) красный
 - 5) круг

- 2 **Для тушения небольшого бытового возгорания можно воспользоваться**
 - 1) поваренной солью
 - 2) мукой
 - 3) плотной синтетической тканью
 - 4) стиральным порошком
 - 5) какао-порошком

- 3 **Какие растения являются ядовитыми?**
 - 1) актинидия острая
 - 2) белокопытник широкий
 - 3) анис
 - 4) борщевик
 - 5) вороний глаз

- 4 **К опасным геологическим явлениям и процессам относятся**
 - 1) сель
 - 2) обвал
 - 3) лавовый поток
 - 4) затор
 - 5) цунами

- 5 **По каким номерам в Российской Федерации возможно вызвать экстренные службы с сотового телефона?**
 - 1) 911
 - 2) 112
 - 3) 985
 - 4) 413
 - 5) 113

- 6 **К средствам индивидуальной защиты органов дыхания относятся**
 - 1) камера защитная детская
 - 2) щиток защитный лицевой
 - 3) респиратор
 - 4) скафандр
 - 5) гидроизолирующий костюм

- 7 **День солидарности в борьбе с терроризмом стал памятной датой после событий, произошедших в школе № 1 города Беслана**
- 1) 1–3 сентября
 - 2) 2004 года
 - 3) 23–26 октября
 - 4) 14–19 июня
 - 5) 1995 года
- 8 **Какие действия запрещены при оказании первой помощи пострадавшему с термическим ожогом при наличии целых и вскрывшихся пузырей?**
- 1) вскрывать пузыри
 - 2) накладывать нетугую повязку
 - 3) смазывать ожоговую рану маслами, жирами
 - 4) прикладывать поверх повязки холод
 - 5) поить пострадавшего
- 9 **Какие признаки характерны для ушиба конечности?**
- 1) отёк
 - 2) деформация
 - 3) кровоизлияние
 - 4) кровотечение наружное
 - 5) костный хруст
- 10 **Как правильно проверить наличие сознания у пострадавшего?**
- 1) слегка похлопать по щекам
 - 2) обратиться с вопросом, например «что с Вами?»
 - 3) аккуратно потрясти за плечи
 - 4) надавить на точку, находящуюся между носом и верхней губой
 - 5) растереть мочки ушей

Максимум за тестовые задания – 120 баллов.

Теоретические задания

Задание 1

Установите соответствие между изображением дорожного знака и его наименованием.



«Опасный поворот»

«Выброс гравия»

«Скользкая дорога»

«Опасные повороты»

«Пересечение с велосипедной дорожкой»

«Прочие опасности»

«Жилая зона»






«Начало населённого пункта»

«Пешеходная дорожка»

«Пешеходный переход»






Задание 2

Каждый визуальный сигнал «поверхность – воздух», применяемый при поисково-спасательных операциях, имеет определённое значение. Установите соответствие между изображением сигнала и его значением.

	«Нет, или отрицательно»
	«Ничего не обнаружено, продолжаем поиски»
	«Неспособны двигаться, требуется медицинская помощь»
	«Двигаемся в этом направлении»
	«Получены сведения, что воздушное судно находится в этом направлении»
	«Требуется помощь»
	«Требуется оружие и боеприпасы»

Задание 3

Установите соответствие между изображением топографического знака и его наименованием.

	Редколесье
	Овраг
	Кустарники
	Луг
	Озеро. Проходимое болото

Задание 4

При оказании первой помощи можно использовать аптечку первой помощи (автомобильную).

Вариант 1. Укажите какие средства или медицинские изделия входят в аптечку первой помощи (автомобильную).

Вариант 2. Укажите какие средства или медицинские изделия НЕ входят в аптечку первой помощи (автомобильную).

Средства или медицинские изделия	
1	 <p>Бриллиантовый зелёный, 1%-ный спиртовой раствор</p>
2	 <p>Анальгин, таблетки</p>
3	 <p>Перчатки медицинские нестерильные смотровые</p>
4	 <p>Лейкопластырь рулонный</p>
5	 <p>Устройство для проведения искусственного дыхания «Рот–устройство–рот»</p>
6	 <p>Шина складная</p>
7	 <p>Бинт марлевый медицинский стерильный 7 м x 14 см</p>

8	 <p>The image shows a white and blue box for a hemostatic collagen sponge. The text on the box includes '50x50 мм', 'ФАП/ВЕЛЕСМИ', 'ГУБКА ГЕМОСТАТИЧЕСКАЯ КОЛЛАГЕНОВАЯ', 'СТЕРИЛЬНО', and '1 штука'. Below the box is a yellow, rectangular, porous sponge.</p>	Губка гемостатическая коллагеновая
9	 <p>The image shows a red, elastic, fabric bandage with a white strap and buckle, used for medical purposes.</p>	Жгут кровоостанавливающий
10	 <p>The image shows a brown box and a glass bottle of iodine solution. The box is labeled 'Иод' and 'раствор для наружного применения 5% 10 мл'. The bottle is also labeled 'Иод' and '5%' and has a white cap with a glass dropper.</p>	Йод, 5%-ный спиртовой раствор

Максимальная оценка за работу – 200 баллов.