



ВСЕРОССИЙСКАЯ ОЛИМПИАДА ШКОЛЬНИКОВ  
ПО ИСТОРИИ. 2018–2019 уч. г.  
МУНИЦИПАЛЬНЫЙ ЭТАП. 7 КЛАСС

***В заданиях 1–3 дайте один верный ответ. Ответ внесите в таблицу в бланке работы.***

**1.** В каком веке произошли описанные события?

«И когда прокняжил он год на великом княжении, воцарился <в Орде> другой царь, именем Узбек. И увидел Бог мерзкую веру сарацинскую; и от того времени не стали <враги> щадить рода христианского, как говорили о подобном царские дети, бывшие в плену в Вавилоне: “Предал нас в руки царю немилостивому, законопреступному и лукавейшему на всей земле”...»

- 1) XII век
- 2) XIII век
- 3) XIV век
- 4) XV век

**2.** К мифологии какого региона относится представленный фрагмент?

«Сигурд и Регин отправились на Гнигахейд и нашли там след Фафнира, который он оставил, когда полз к водопою. Сигурд вырыл большую яму возле следа и засел в ней. И когда Фафнир проползал над ямой, Сигурд вонзил ему в сердце меч...»

- 1) Пиренейский полуостров
- 2) Южная Италия
- 3) Скандинавия
- 4) Балканы

**3.** Прочитайте отрывок из произведения и определите, какому крупному европейскому процессу он посвящён.

«Мавры снесли с королем Валенсийским:  
Мол, некий Руй Диас, прозванный Сидом,  
Дона Альфонса прогневав, был изгнан.  
Он под Алькосер пришел с дружиной  
И захватил его, хитрость измыслив».

- 1) Крестовые походы
- 2) Реконкиста
- 3) Столетняя война
- 4) Гуситские войны

**Максимум 6 баллов за задания 1–3.**

***Не забудьте перенести Ваши ответы в бланк работы!***



**В заданиях 4, 5 выберите несколько верных ответов из предложенных. Ответы внесите в таблицу в бланке работы.**

**4.** Ниже приведён список терминов (названий). Укажите те из них, которые относятся к событиям (явлениям) истории Византии.

- 1) фемы
- 2) аллод
- 3) базилевс
- 4) вселенский патриарх
- 5) мориски
- 6) вольный город

**5.** Ниже приведён список названий памятников культуры. Укажите те из них, которые были созданы в период существования Древнерусского государства.

- 1) храм Феодора Стратилата на Ручью
- 2) «Изборник» Святослава
- 3) Житие Михаила Черниговского
- 4) «Остромирово Евангелие»
- 5) собор святой Софии в Полоцке
- 6) «Хождение за три моря»

**Максимум 6 баллов за задания 4, 5.**


**6.** Перед Вами перечень событий, произошедших в истории трёх различных государств. В таблице в бланке работы под названиями государств поставьте номера событий, произошедших в их истории.

- 1) курултай на реке Онон, избрание Темучина
- 2) объединение страны династией Гуптов
- 3) правление Баязета I Молниеносного
- 4) отделение Бахманийского султаната от Делийского
- 5) рейд Джэбэ и Субэдэя в Среднюю Азию
- 6) битва при Косовом поле
- 7) принятие в качестве основного закона «Великой Ясы»
- 8) создание империи «Великих Моголов»
- 9) захват Константинополя

Государство	Индия (1)	Монгольская империя (2)	Османская империя (3)
События			

**Максимум за задание – 9 баллов.**

**Не забудьте перенести Ваши ответы в бланк работы!**



7. Дайте краткое обоснование ряда (что объединяет перечисленные элементы с исторической точки зрения) и укажите, какой из элементов является лишним по данному основанию.


7.1.

А) Псковский Кремль	Б) Нижегородский Кремль
 A photograph of a stone tower with a conical roof, part of the Pskov Kremlin, situated on a rocky outcrop overlooking a river.	 A photograph of a stone tower with a green conical roof, part of the Nizhny Novgorod Kremlin, with a cityscape and a lake in the background.
В) Ивангородская крепость	Г) Измайловский Кремль
 An aerial photograph of the Ivanogorodskaya krepost, a large stone fortress built on a hillside overlooking a river.	 A photograph of the Izmailovskiy Kremly, a colorful and ornate reconstruction of a Russian kremlin, featuring multiple towers and a white wall.
Д) Зарайская крепость	
 A photograph of a stone tower with a conical roof, part of the Zarayskaya krepost, situated on a grassy hillside.	

7.2. река Нева, река Волхов, озеро Ильмень, река Ловать, река Днепр, Онежское озеро.

Максимум за задание – 8 баллов.

***Не забудьте перенести Ваши ответы в бланк работы!***



**8.** Что с исторической точки зрения объединяет перечисленные в ряду элементы? Дайте максимально точный ответ.

**8.1.** Урбан II, Боэмунд Тарентский, Готфрид Бульонский, Танкред де Готвиль.

**8.2.** Сергей Радонежский, Антоний Печерский, Кирилл Белозерский, Зосима Соловецкий.

**Максимум за задание – 6 баллов.**

**9.** Расположите в хронологической последовательности перечисленные события. Ответы внесите в таблицу в бланке работы.

- А) битва на реке Воже
- Б) смерть Даниила Московского
- В) начало Гуситских войн
- Г) Невская битва
- Д) открытие Америки Колумбом
- Е) сражение с арабами при Пуатье


**Максимум за задание – 6 баллов.**

**10.** Вашему вниманию представлены фрагменты из юмористической книги «Всеобщая история, обработанная Сатириконом» (1910 г.). Прочитайте отрывки и вставьте в таблицу в бланке работы пропущенные в тексте имена, названия.

А) «А следующим королём был [1]. Отношение к религии у него было благодушное, с оттенком настоящей веротерпимости... Начал он с того, что был гугенотом. Но после Варфоломеевской ночи, пойманный королём, он имел с ним разговор, после которого перешёл в католичество. Однако стоило только гугенотам начать новую войну с католиками, как он немедленно сделался гугенотом. Но тут вышла маленькая загвоздка: протестанты провозгласили его королём, а католики-парижане не хотели его признавать».

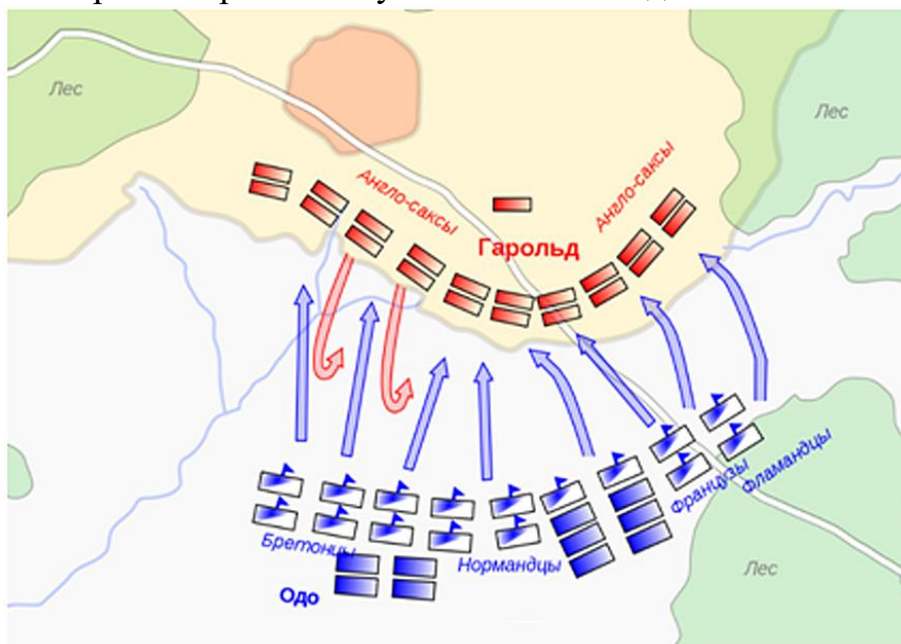
Б) «Как это ни удивительно – учение [2] пришлось по вкусу именно германским влиятельным князьям и курфюрстам. В особенности нравилась им та часть учения, которая доказывала, что монастыри не нужны, что можно спастись и без монастырей. Курфюрсты позакрывали все монастыри, а имущество монастырское и земли секуляризировали».

В) «До его изобретения печатали книги так: на деревянной доске вырезывали выпуклые буквы, намазывали чёрной краской и, положив на бумагу доску, садились на неё в роли подвижного энергичного пресса. От тяжести типографа и зависела чистота и чёткость печати. Вся заслуга [3] заключалась в том, что он напал на мысль вырезать каждую букву отдельно и уже из этих подвижных букв складывать слова для печати. Кажется, мысль пустяковая, а не приди она ему в голову, книгопечатание застряло бы на деревянных досках и человечество до сих пор сидело бы в каком-нибудь семнадцатом веке...»



Г) «Король арагонский [4], прозванный Католиком, вступил в брак с наследницей кастильской короны [5]. Этим было положено основание Испанскому королевству. Король потом взял Гренаду – последний оплот мусульманских владений. Великолепный город был предан разграблению».  
**Максимум за задание – 10 баллов.**

**11. Внимательно рассмотрите схему и выполните задания.**



**11.1.** Укажите название битвы, события которой обозначены на схеме. Напишите год, когда произошла эта битва.


**11.2.** Укажите имя и прозвище командующего войсками, обозначенными на схеме прямоугольниками, расположенными снизу. Укажите название региона (герцогства), где он правил до этой битвы. Укажите век, когда прервалась династия, основанная этим командующим войсками.

**11.3.** Укажите название столицы государства, войска которого обозначены на карте прямоугольниками, расположенными сверху.

**11.4.** Назовите город, в котором помещается наиболее известный ковер, подробно излагающий события этой битвы и последовавших за ней событий.

**Максимум за задание – 12 баллов.**

***Не забудьте перенести Ваши ответы в бланк работы!***



12. Перед Вами изображения трёх русских правителей Российского государства и изображения трёх русских святых. Ваша задача – назвать их и сопоставить современников.

**Правители**




**Святые Русской церкви**



Запишите в таблицу в бланке работы имена правителей в хронологической последовательности их деятельности. Сопоставьте имена правителей с изображением современника – святого: впишите буквенное обозначение изображения святого – современника каждого правителя в соответствующие графы таблицы, назовите имена святых.

**Максимум за задание – 13 баллов.**

***Не забудьте перенести Ваши ответы в бланк работы!***




**13.** Прочитайте отрывок из исторического источника и выполните задания.

«Тот же безбожный Мамай стал похваляться и, позавидовав второму Юлиану-отступнику, царю Батыю, начал расспрашивать старых воинов, как царь Батый покорил Русскую землю. И стали ему сказывать старые воины, как покорил Русскую землю царь Батый, как взял Киев и Владимир, и всю Русь, славянскую землю, и великого князя Юрия Дмитриевича убил, и многих православных князей перебил, а святые церкви осквернил и многие монастыри и сёла пожёг, а во Владимире соборную церковь златоверхую разграбил. И так как был помутнён он разумом, то того не постиг, что как Господу угодно, так и будет: так же и в давние дни Иерусалим был пленён Титом и Навуходоносором, царём вавилонским, за прегрешения и маловерие иудеев – но не бесконечно гневается Господь и не вечно карает.

Прознал же о том князь Олег Рязанский, что Мамай кочует на Воронеже и хочет идти на Русь, на великого князя Дмитрия Ивановича Московского. Скучность ума была в голове его, послал сына своего к безбожному Мамаю с великою честью и с многими дарами и писал грамоты свои к нему так: «Восточному великому и свободному, царям царю Мамаю – радоваться! Твой ставленник, тебе присягавший Олег, князь рязанский, много тебя молит. Слышал я, господин, что хочешь идти на Русскую землю, на своего слугу князя Дмитрия Ивановича Московского, устрашить его хочешь. Теперь же, господин и пресветлый царь, настало твоё время: золотом, и серебром, и богатством многим переполнилась земля Московская, и всякими драгоценностями твоему владению на потребу. А князь Дмитрий Московский – человек христианский – как услышит слово ярости твоей, то отбежит в дальние пределы свои: либо в Новгород Великий, или на Белоозеро, или на Двину, а великое богатство московское и золото – всё в твоих руках будет и твоему войску на потребу. Меня же, раба твоего, Олега Рязанского, власть твоя пощадит, о царь: ведь ради тебя я крепко устрашаю Русь и князя Дмитрия. И ещё просим тебя, о царь, оба раба твои, Олег Рязанский и Ольгерд: обиду приняли мы великую от этого великого князя Дмитрия Ивановича, и как бы мы в своей обиде твоим именем царским ни грозили ему, а он о том не тревожится. И ещё, господин наш царь, город мой Коломну он себе захватил – и о всём том, о царь, жалобу воссылаем тебе”».

**13.1.** Укажите название литературного произведения, отрывок из которого представлен в задании. Назовите битву, которой посвящено это произведение, и укажите год, когда состоялась эта битва.

**13.2.** Автор текста упоминает период, когда «Царь Батый покорил Русскую Землю». Назовите событие, о котором идёт речь. Укажите годы, когда это произошло. Назовите два факта, упоминаемые в отрывке, которые подтверждают, что «покорение Русской земли» было разорительным для русских княжеств.



**13.3.** В какой земле правил «великий князь Юрий Дмитриевич», убийство которого упоминается в тексте?

**13.4.** Какие правители иностранных государств упоминаются в тексте? Укажите четырёх правителей и назовите страны, которыми они правили.

**Максимум за задание – 24 балла.**

**Максимум за работу – 100 баллов.**

