

ВСЕРОССИЙСКАЯ ОЛИМПИАДА ШКОЛЬНИКОВ  
ПО ТЕХНОЛОГИИ 2016–2017 уч. год  
ШКОЛЬНЫЙ ЭТАП

Номинация «Культура дома и декоративно-прикладное творчество»

Теоретический тур

9 класс

**1. Отгадайте старинную загадку (1 балл).**

«Стоит терем, в тереме ящик, в ящике мучка, в мучке жучка».

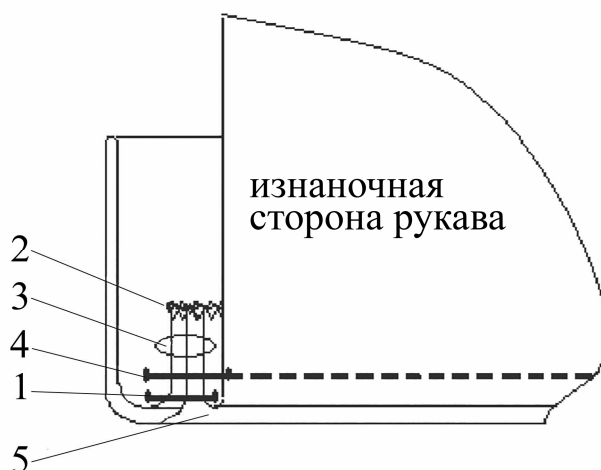
---

**2. Разгадайте и напишите зашифрованные слова (1 балл).**

КАВЫЮЙКР \_\_\_\_\_

КАТКОКЕ \_\_\_\_\_

**3. Напишите технологическую последовательность машинных и утюжильных операций при соединении отложной манжеты с рукавом (2 балла).**



1. \_\_\_\_\_
2. \_\_\_\_\_
3. \_\_\_\_\_
4. \_\_\_\_\_
5. \_\_\_\_\_

**4. Решите проблему (2 балла).**

При несоблюдении направления долевой нити в процессе раскроя тканей с упругими нитями возможны искажения формы деталей.

Укажите, что нужно учитывать при раскрое тканей с упругими нитями.

1.

---

---

2.

---

---

**5. Решите проблему (2 балла).**

При стачивании деталей швейного изделия переплетение верхней и нижней нитей видно *сверху*.

1. Объясните причину неполадки.

2. Опишите Ваши действия по её устранению.

1.

---

---

2.

---

---

**6. Отгадайте загадку и выполните задание (2 балла).**

«Он с жадностью пьёт – и не чувствует жажды.

Он бел – а купается только однажды.

Он смело ныряет в кипящую воду,

Себе на беду, но на радость народу». \_\_\_\_\_

Перечислите блюда, при приготовлении которых этот продукт необходим (не менее 4):

---

---

---

---

**7. Ответьте на вопрос (1 балл).**

В каких случаях изготовление швейного изделия осуществляется с двумя примерками?

---

---

---

---

**8. Напишите ответ (1 балл).**

По какой причине в изделиях из тканей с водоотталкивающим плёночным покрытием не проводят ВТО?

---

---

**9. Вставьте в предложение пропущенные слова (1 балл).**

Сгибы встречных складок с лицевой стороны направлены \_\_\_\_\_, а с изнаночной – \_\_\_\_\_.

**10. Напишите ответ (1 балл).**

Как расположена нить основы на детали кроя спинки?

---

---

---

---

**11. Напишите ответ (4 балла).**

Назовите срезы на деталях кроя брюк.



Задняя половинка:


1. \_\_\_\_\_
2. \_\_\_\_\_
3. \_\_\_\_\_
4. \_\_\_\_\_
5. \_\_\_\_\_

Передняя половинка:

6. \_\_\_\_\_
7. \_\_\_\_\_
8. \_\_\_\_\_
9. \_\_\_\_\_
10. \_\_\_\_\_

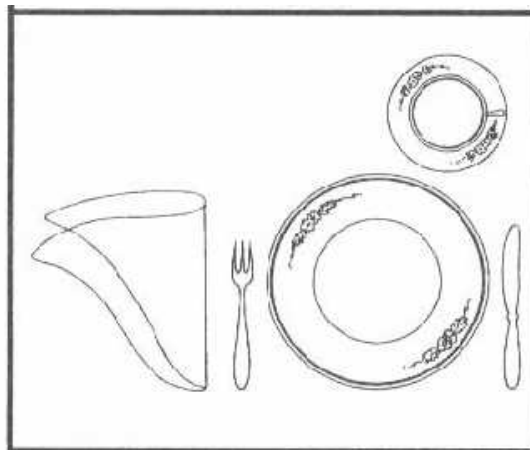
**12. Напишите ответ (4 балла).**

Подпишите названия силуэтов одежды.



**13. Напишите ответ (2 балла).**

Изучите рисунок и напишите, для какого приёма пищи выполнена сервировка.



---

---

---

---

**14. Творческое задание (11 баллов).**

Опишите внешний вид модели по предложенной форме.



1. Наименование изделия.
2. Характеристика ткани.
3. Силуэтная форма.
4. Покрой рукавов.
5. Вид застёжки.
6. Декоративно-отделочные элементы.

---



---



---



---



---



---



---



---



---



---



---



---



---



---



---



---



---



---



---



---



---



---