

ВСЕРОССИЙСКАЯ ОЛИМПИАДА ШКОЛЬНИКОВ
ПО ИСТОРИИ 2015–2016 уч. г.
МУНИЦИПАЛЬНЫЙ ЭТАП

7 класс

Методика оценивания выполнения олимпиадных заданий

В заданиях 1–3 дайте один верный ответ. Ответ внесите в таблицу в бланке работы.

1. Как звали короля, оставившего это завещание?

«Мы хотим, чтобы всем стало известно, что мы постановляем произвести следующий раздел вручённого нам богом королевства между нашими любезными сыновьями Пипином, Людовиком (и) Карлом, чтобы после нашего ухода вследствие смерти каждый из них мог бы иметь влияние. Если божья благодать возжелает, чтобы они пережили нас, им следует передать их долю для держания и управления».

- | | |
|-------------------|--------------------------|
| 1) Карл Мартелл | 3) Карл Великий |
| 2) Пипин Короткий | 4) Людовик Благодостивый |


2. В каком году, согласно летосчислению от сотворения мира, был издан документ, отрывок из которого дан ниже?

«А христианам отказываться из волости, и с села в село, один срок в году... Дворы пожилые платят в полях за двор рубль, а в лесех полтина. А которой христианин поживет за ким год, да поидет прочь, и он платит четверть двора, а два года поживет да поидеть прочь, и он полдвора платит; а три годы поживет, а поидет прочь, и он платит три четверти двора; а четыре года поживет, и он весь двор платит».

- | | |
|------------|------------|
| 1) 7005 г. | 3) 7059 г. |
| 2) 7046 г. | 4) 7105 г. |

3. В правление какого короля был организован судебный процесс, обвинительная статья которого приведена ниже?

«Хотя сами тамплиеры и заявляют, что их орден был учрежден с одобрения Святого Престола, <...> каждый из них во время вступления в орден, или же некоторое время спустя, или же при первой представившейся возможности, отрекался от Иисуса Христа, иногда от Святого распятия, иногда от Бога-Сына, а иногда от Бога-Отца, а иногда от Пресвятой Девы Марии и всех святых, направляемый и наставляемый теми, кто принимал его в орден».



- 1) Карл VII
- 2) Филипп III
- 3) Генрих II
- 4) Филипп IV

Ответ:

1	2	3
4	1	4

По 2 балла за каждый верный ответ.

Всего 6 баллов за задания 1–3.

***В заданиях 4 и 5 выберите несколько верных ответов из предложенных.
Ответы внесите в таблицу в бланке работы.***

4. Какие из представленных государств были созданы в результате крестовых походов XI–XIII вв.?

- 1) Иерусалимское королевство
- 2) Королевство Астурия
- 3) Латинская империя
- 4) Графство Триполи
- 5) Генуэзская республика
- 6) Княжество Трансильвания

5. Какие из перечисленных городов входили в состав Московского княжества при Данииле Александровиче?

- 1) Переяславль-Залесский
- 2) Коломна
- 3) Торжок
- 4) Кострома
- 5) Можайск
- 6) Козельск

Ответ:

4	5
134	12

По 3 балла за полностью верный ответ на каждое задание; 1 балл за ответ с одной ошибкой (не указан один из верных ответов или наряду с указанными верными ответами приводится один неверный).

Всего 6 баллов за задания 4, 5.

6. Перед Вами список событий, произошедших в правления трёх различных русских князей. Запишите в верхнюю строку таблицы в бланке работы имена князей, а в нижнюю – порядковые номера соответствующих каждому князю событий.

- 1) пленение сыновьями хана Улу-Мухаммеда
- 2) перенос митрополичьей кафедры в Москву
- 3) избрание московским митрополитом Ионы
- 4) перенос столицы своего княжества во Владимир
- 5) междоусобная война в Московском княжестве
- 6) строительство храма Покрова на Нерли
- 7) захват Киева
- 8) антиордынское восстание в Твери
- 9) присоединение к московскому княжеству Углича и Белоозера


Ответ:

Князь	Андрей Боголюбский	Иван Калита	Василий II
Событие	467	289	135

По 2 балла за каждый правильный критерий (имя правителя). По 2 балла за правильное определение событий, 1 балл в случае 1 ошибки.

Всего 12 баллов.

7. Дайте краткое обоснование ряда (что объединяет перечисленные элементы) и укажите, какой из элементов является лишним по данному основанию.




7.1.

А) Кельнский собор



Б) Реймский собор



В) Вормсский собор



Г) Собор Святого Вита



Д) Йоркский собор



7.2. 1223, 1238, 1242, 1252.

Ответ:

7.1. Готические соборы. Лишнее: Вормсский собор – романский.

7.2. Годы столкновений Руси с войсками монгольской империи. Лишнее: 1242 – столкновение с крестоносцами.

Ответы могут быть даны в иных, близких по смыслу формулировках.

По 4 балла за каждый верный ответ.

Всего 8 баллов.

8. По какому принципу образованы ряды? Дайте максимально точный ответ.

8.1. 1346, 1356, 1415, 1428.

8.2. Паперть, притвор, неф, алтарь.

Ответ:


8.1. Годы сражений Столетней войны

8.2. Части христианского храма.

Ответы могут быть даны в иных, близких по смыслу формулировках.

По 4 балла за каждый верный ответ.

Всего 8 баллов.



9. Расположите в хронологической последовательности события. Ответы внесите в таблицу в бланке работы.

- А) Варфоломеевская ночь
- Б) введение опричнины
- В) венчание на царство Ивана IV
- Г) Нантский эдикт
- Д) восшествие на престол Елизаветы I
- Е) первое кругосветное путешествие

Ответ:

Е	В	Д	Б	А	Г
---	---	---	---	---	---

4 балла за полностью верную последовательность; 2 балла за последовательность с одной ошибкой (т. е. верная последовательность восстанавливается путём перестановки любых двух символов); 0 баллов, если допущено более 1 ошибки.

Всего 4 балла.

10. Расположите в хронологической последовательности. Ответы внесите в таблицу в бланке работы.

- А) строительство Золотых ворот в Киеве
- Б) начало эпидемии черной смерти в Европе
- В) разгром арабов при Пуатье
- Г) посольство Ольги в Константинополь
- Д) поход князя Владимира на Корсунь
- Е) издание Великой хартии вольностей

Ответ:

В	Г	Д	А	Е	Б
---	---	---	---	---	---

4 балла за полностью верную последовательность; 2 балла за последовательность с одной ошибкой (т.е. верная последовательность восстанавливается путём перестановки любых двух символов); 0 баллов, если допущено более 1 ошибки.

Всего 4 балла.

11. Определите пропущенные в тексте названия, слова, имена, даты, обозначенные порядковыми номерами. При необходимости при порядковых номерах даются пояснения о характере требуемой вставки. Необходимые вставки впишите под соответствующими номерами в таблицу в бланке работы.

После похода 1550 года царь **(1 – имя)** и его советники из **(2 – ближайший круг)** решили не возвращать войска в центральные районы России. Зимовать остались в пограничье. Одновременно решили в 30 верстах от Казани в месте впадения в **(3 – название)** её притока построить крепость **(4 – название)**. Этот город должен был стать русской базой для наступления на Казань.

Летом **(5)** года русские войска вновь двинулись на Казанское ханство. В конце августа 150-тысячное войско при 150 **(6 – название оружия)** осадило Казань. Все попытки казанцев прорвать кольцо успеха не имели. Решающий штурм предприняли 2 октября, через день после праздника **(7 – название)**. Казанцы смело оборонялись, но город пал.


В **(8 – город)** в честь штурма Казани построили грандиозный храм. Его называли в память праздника, предшествовавшего взятию Казани, Покровский собор. В народе он также известен как храм **(9)**, по имени знаменитого московского юродивого, который был похоронен в этом соборе.

Этот военный успех укрепил русское государство. Присоединение **(10 – регион)** способствовало не только освоению края русскими крестьянами, но и развитию ремесла, торговли и сельского хозяйства на этих территориях.

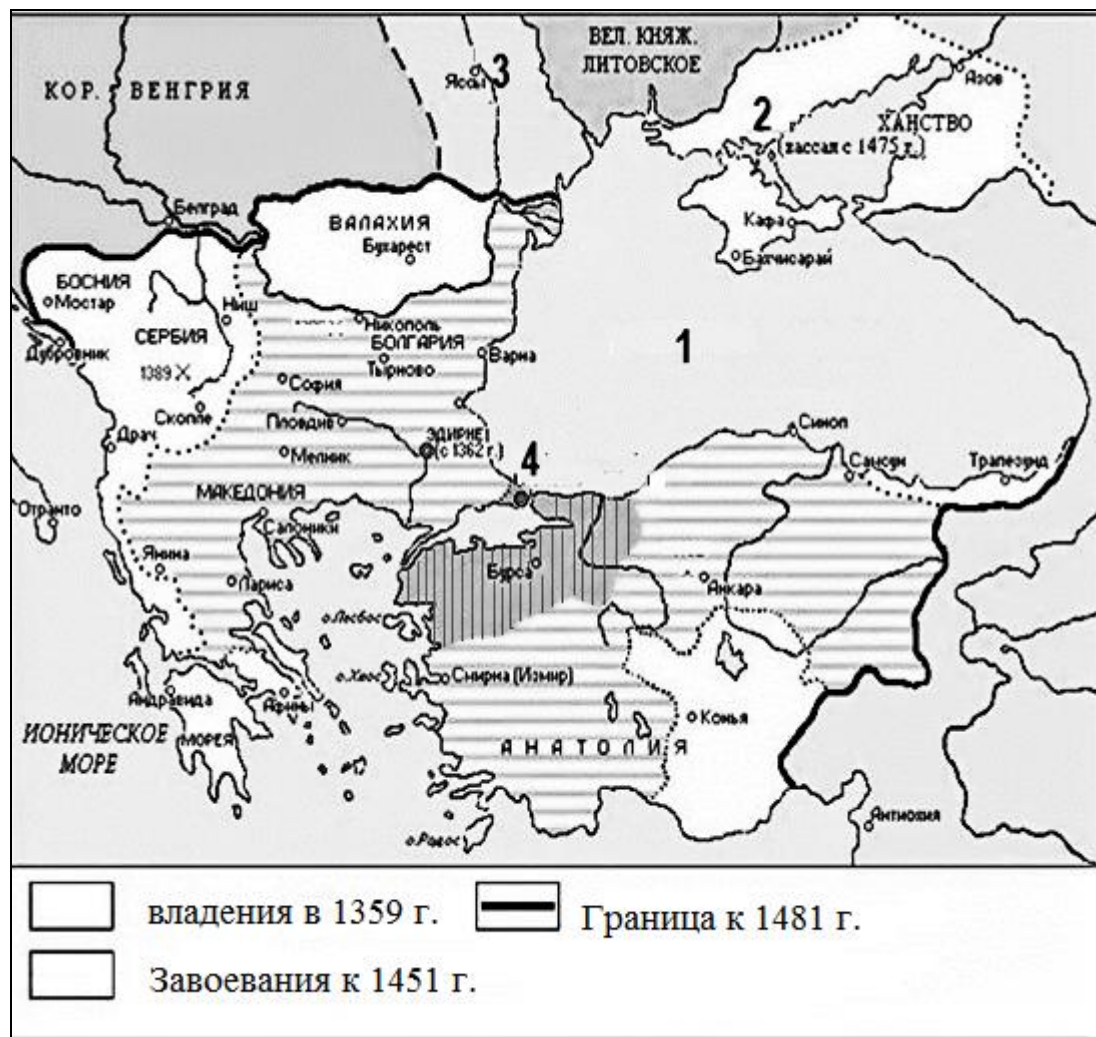
Ответ:

1	Иван IV
2	Избранная Рада
3	Волгу
4	Свияжск
5	1552
6	пушки
7	Покрова Богородицы
8	Москве
9	Василия Блаженного
10	Поволжья

**По 1 баллу за каждую верную вставку.
Всего 10 баллов.**



12. Внимательно рассмотрите схему и выполните предложенные ниже задания.



1. Назовите государство, чья граница к 1481 году обозначена в легенде схемы.
2. Назовите правителя этого государства, при котором был захвачен город, обозначенный на схеме цифрой 4.
3. Как стал называться город, обозначенный на схеме цифрой 4, после того, как был захвачен войсками государства, представленного на схеме?
4. Заполните горизонтальной или вертикальной штриховкой прямоугольники условных обозначений легенды схемы и перенесите данную штриховку в аналогичные прямоугольники в таблице в бланке ответов.
5. Напишите название моря, обозначенного на схеме цифрой 1.
6. Напишите название ханства, обозначенного на схеме цифрой 2.
7. Запишите название государства, обозначенного на схеме цифрой 3.
8. Подпишите местность, где произошло сражение, обозначенное на схеме.

Ответ:


1	Османская империя
2	Мехмет II
3	Стамбул
4	верхний – вертикальная штриховка, нижний – горизонтальная штриховка
5	Чёрное море
6	Крымское
7	Молдавское княжество
8	Косово поле

По 2 балла за каждый правильный ответ.

Всего 16 баллов.

13. Внимательно рассмотрите изображения храмов и гербов и выполните задания. Ответы внесите в таблицу в бланке работы.


А.



Б.



В.






1.



2.



3.

1. Соотнесите фотографии храмов и гербы городов, в которых они находятся.
2. Назовите имена великих князей, чья власть распространялась на города, в которых построены данные храмы, в годы их постройки.
3. Укажите, в каком из представленных храмов сохранились фрески Феофана Грека. Назовите этот храм.

Ответ:

1.

Буквенное обозначение герба	А	Б	В
Порядковый номер изображения храма	2	3	1

2.

Порядковый номер изображения храма	Имя великого князя
1	Всеволод Большое Гнездо
2	Дмитрий Донской
3	Ярослав Мудрый

3.

Порядковый номер изображения храма	Название храма
2	Церковь Спаса на Ильине


По 1 баллу за каждый верный элемент ответа.

Всего 8 баллов.

14. Прочитайте приведённый исторический источник и выполните задания.

«Во-первых, было учреждено, что каждый год два Мастера гильдии красильщиков будут избираться с общего Согласия Мастеров этой гильдии города Бристоля и их имена будут передаваться мэру в сотенный суд, и там они в Михайлов день будут клясться на Библии усердно выявлять все виды нарушений, которые могут быть сделаны в пределах Бристоля в окраске вайдой сукна, и шерсти. И если какой-нибудь вред или ущерб будет нанесен любому человеку, то нарушитель должен будет дать возмещение обиженной стороне по усмотрению упомянутых двух Мастеров и четырех других беспристрастных людей, избранных мэром и его Советом, как того требует проступок. И если будет так, что какой-нибудь мужчина или женщина не пожелают придерживаться ордонансов и подчиняться решениям, то тогда мэр и его Совет должны заставить виновного возместить ущерб.

...Никакой слуга или ученик с этого времени не будет допущен к свободам Бристоля, чтобы стать полноправным бюргером и заниматься ремеслом красильщиков, если двумя Мастерами не будет засвидетельствовано в суде перед мэром Бристоля, что он является достаточно умелым и хорошо обученным данному ремеслу.



...Поскольку раньше различные люди, которые не были учениками, слугами или мастерами этой гильдии, так и другие, у которых была иная специальность, не имеющие знаний и навыков в ремесле крашения, брали на себя окраску вайдой указанных сукон и шерсти, сукно из-за плохого владения [ремеслом] и недостатка знаний бывало сильно испорчено этими людьми в отношении цвета и имело много других дефектов к значительному ущербу собственников, большому бесчестию города и разорению данной гильдии, вследствие чего мастера, подмастерья и ученики гильдии красильщиков бродяжничают из-за отсутствия работы, так как люди других специальностей занимаются вышеуказанным ремеслом к их большому позору и разорению. По этой причине предписывается и утверждается, что отныне ни один человек названного ремесла не должен окрашивать никакое сукно или шерсть, если два упомянутых Мастера, которые будут в то время, не подтвердят, что он является умелым, подготовленным и достаточно обученным данному ремеслу.

Пожаловано в Гилдхолле Бристоля в ближайшую среду после праздника Воздвижения Креста Господня [14 сентября] в 18-й год царствования короля Генриха VI.»

1. Назовите век и страну создания данного документа.
2. В каком значении употребляется слово гильдия в данном отрывке?
3. Чьи интересы защищает данный документ?
4. Объясните, почему в тексте вводится следующее ограничение: «отныне ни один человек названного ремесла не должен окрашивать никакое сукно или шерсть, если два упомянутых Мастера, которые будут в то время, не подтвердят, что он является умелым, подготовленным и достаточно обученным данному ремеслу».
5. Каким образом придаётся обязательность решениям двух избранных Мастеров для всех членов гильдии и жителей Бристоля?
6. Какие функции выполняла гильдия? Назовите три функции.

Ответ:

1. XVв. (1439 г.); Англия. **(По 2 балла за каждый верный ответ. Всего 4 балла)**
2. Гильдия – товарищество, союз купцов в средневековой Западной Европе; часто в состав гильдий входили и ремесленники. **(2 балла)**
3. Покупателей окрашенных тканей, полноправных мастеров красильщиков – членов гильдии. **(2 балла)**
4. Ремесло в Средние века было организовано по жесткому корпоративному принципу. Заниматься тем или иным ремеслом могли только люди, входившие в определенный цех или гильдию. **(2 балла)**
5. Решением мэра Бристоля и Советом мэра. В случае неисполнения, накладывается наказание сотенным судом, исполнение контролируется должностными лицами – бейлифами. **(2 балла)**
6. Контроль за качеством продукции, прием в гильдию новых членов, разрешение вопросов возмещения ущерба приобретателей продукции. **(По 2 балла за каждую названную функцию. Всего 6 баллов)**

Всего за задание 18 баллов.

Всего за работу 100 баллов.

