

**ВСЕРОССИЙСКАЯ ОЛИМПИАДА ШКОЛЬНИКОВ  
ПО ИСТОРИИ. 2014–2015 ГОД  
ШКОЛЬНЫЙ ЭТАП. 9 КЛАСС**

*В заданиях 1–3 дайте один верный ответ. Ответ внесите в таблицу.*

**1** В ходе какой битвы князь Святослав произнес следующие слова:

«Уже намъ некамо ся дети, волею или неволею стати противу; да не посрамимъ земле Руские, но ляжемъ костью, мертвые бо сраму не имать...»

- 1) При Доростоле
- 2) В бою у Днепровских порогов
- 3) При Адрианополе
- 4) При Итиле

**2** В каком году стал великим князем Киевским правитель, чья смерть описана ниже?

«В лето ... преставился благоверный князь ..., братолюбец и нищелюбец и добрый страдалец за Русскую землю. Он просветил её, как солнце, испускающее лучи... Тело его положили в святой Софии возле отца его Всеволода... Плакали и сыновья его Мстислав, Ярополк, Вячеслав, Юрий и внуки его».

- 1) 1093
- 2) 1113
- 3) 1125
- 4) 1155

**3** Ситуация накануне какой битвы описана ниже?

«Пришла неслыханная рать, безбожные моавитяне, называемые татары, их же никто ясно не знает, кто они и откуда пришли... Мы слышали, что многие страны попленили татары: ясов, обезов, касогов; и половцев безбожных пленили множество... Котян, хан половецкий, ... пришёл он с князьями половецкими в Галич с поклоном к князю Мстиславу, к зятю и ко всем князьям русским...»

- 1) Битва на р. Ведрошь
- 2) Битва на р. Калка
- 3) Битва на р. Липица
- 4) Битва на р. Шелонь

1	2	3

***В заданиях 4–6 выберите несколько верных ответов из предложенных. Ответы внесите в таблицу.***

**4** Укажите, какие из представленных культур растений активно выращивались русским крестьянином в X–XVII вв.

- 1) Рожь
- 2) Брюква
- 3) Картофель
- 4) Редька
- 5) Репа
- 6) Помидоры
- 7) Огурцы
- 8) Ячмень

**5** Какие из указанных русских княжеств не были разорены монголами в 1237–1241 гг.?

- 1) Киевское княжество
- 2) Муромское княжество
- 3) Княжество Смоленское
- 4) Полоцкое княжество
- 5) Владимиро-Суздальское княжество
- 6) Переяславское княжество

**6** Какие из этих земель (княжеств) были присоединены к великому княжеству Московскому в правление Ивана III?

- 1) Новгород
- 2) Тверь
- 3) Ростов
- 4) Вятка
- 5) Псков
- 6) Смоленск
- 7) Рязань
- 8) Ярославль

4	5	6

**7** По какому принципу образованы ряды? Дайте максимально точный ответ.

1. Н.Н. Новосильцев, В.П. Кочубей, А. Чарторыйский, П.А. Строганов
2. Австралия, Новая Зеландия, Индия, Канада

**Ответ:**


**8** Дайте краткое обоснование ряда (что объединяет перечисленные элементы) и укажите, какой из элементов является лишним по данному основанию:

1. Битва при Ватерлоо, сражение при Лютцене, битва при Кацбахе, Лейпцигское сражение
2. Закуп, рядович, изгой, холоп.

**Ответ:**


**9** Расположите в хронологической последовательности:

- А) Постройка собора Смольного монастыря
- Б) Завершение постройки дошедшего до нас здания Исаакиевского собора
- В) Приглашение в Россию Чарльза Камерона
- Г) Возведение здания Николаевского (Московского) вокзала в Санкт-Петербурге
- Д) Постройка арки Главного штаба в Санкт-Петербурге.
- Е) Завершение строительства собора, в котором находится могила М.И. Кутузова

**Ответ:**

--	--	--	--	--	--

**10** Расположите в хронологической последовательности нормативные акты:

- А) Указ об обязанных крестьянах
- Б) Указ о выкупе наделов остающимися еще в обязательных отношениях к помещикам крестьянами
- В) Указ о разрешении промышленникам покупать крестьян к мануфактурам
- Г) Указ о вольных хлебопашцах
- Д) О даровании крепостным людям прав состояния свободных сельских обывателей и об устройстве их быта
- Е) Манифест о трехдневной барщине

Ответ: 

--	--	--	--	--	--

**11** Установите соответствия. Запишите в таблицу выбранные цифры под соответствующими буквами.

- | Мыслитель            | Оппонент            |
|----------------------|---------------------|
| А) Нил Сорский       | 1) Т.Н. Грановский  |
| Б) Иван Грозный      | 2) Иосиф Волоцкий   |
| В) Патриарх Никон    | 3) Стефан Яворский  |
| Г) Феофан Прокопович | 4) А.С. Киреевский  |
| Д) М.В. Ломоносов    | 5) Протопоп Аввакум |
| Е) П.И. Пестель      | 6) А.М. Курбский    |
| Ж) Ю.Ф. Самарин      | 7) Н.М. Муравьев    |
|                      | 8) А.П. Сумароков   |

Ответ: 

А	Б	В	Г	Д	Е	Ж

**12** Установите соответствия между денежными знаками и годами проведения реформ, в результате которых данные денежные знаки стали использоваться в качестве платежного средства. Запишите в таблицу выбранные цифры под соответствующими буквами.

- | Денежный знак | Год проведения реформы |
|---------------|------------------------|
| А) Ассигнация | 1) 1839 г.             |
| Б) Червонец   | 2) 1535 г.             |
| В) Копейка    | 3) 1700–1718 гг.       |
| Г) Рубль      | 4) 1769 г.             |
|               | 5) 1654 г.             |

Ответ: 

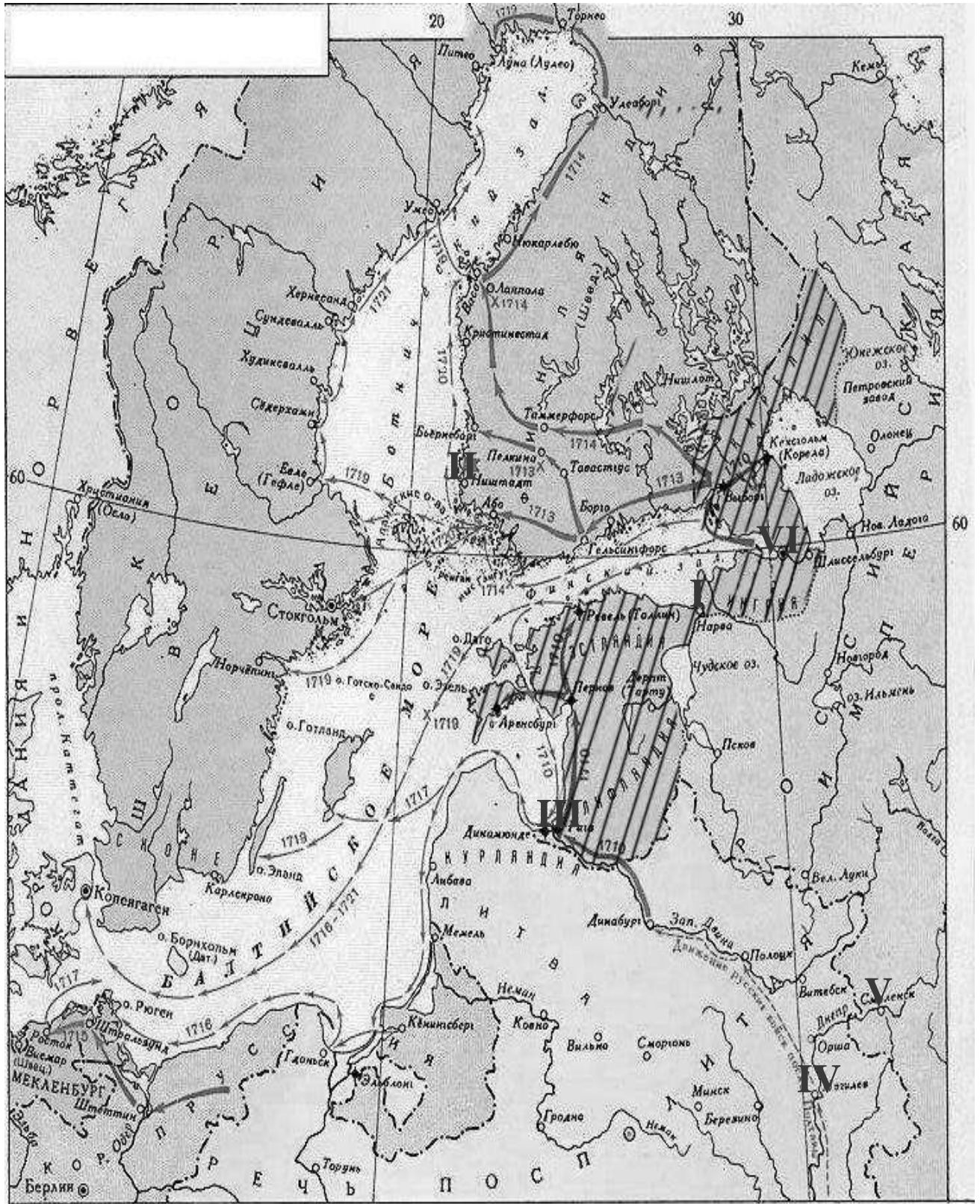
А	Б	В	Г

**13** Определите пропущенные в тексте названия, слова, имена, даты, обозначенные порядковыми номерами. При необходимости при порядковых номерах даются пояснения о характере требуемой вставки. Необходимые вставки впишите под соответствующими номерами в помещенную ниже таблицу.

Началом феодальной раздробленности на Руси принято считать смерть Мстислава Великого – сына **(1 – имя)** – в **(2)** году. Однако уже в начале XII века за каждым столом закрепились своя княжеская династия – например, в Смоленске сидели Ростиславичи, в Суздале и Ростове – **(3 – княжеская ветвь)**, в Чернигове – **(4 – княжеская ветвь)**, потомки печально известного Олега Гориславича. По-иному судьба княжеской власти сложилась в Новгороде – бывшем племенном центре **(5 – племенной союз)**. Изгнание князя в **(6)** году положило конец его притязаниям на власть, а в Новгородской земле установилась форма правления, которую большинство исследователей признают **(7 – наименование формы правления)**. Резко снизилась роль **(8 – город)** как общерусского центра. Так, захвативший город в 1169 году Андрей **(9 – прозвище)** не пожелал сделать его столицей своего государства. Окончательно он перестанет быть главным столом Древней Руси после взятия и разграбления его монголами в **(10)** году, а переезд Киевского **(11 – церковный сан)** в 1299 году лишил бывшую столицу и религиозного первенства. Однако раздробленность не прекратила междоусобиц внутри новых княжеств. В 1174 году в Ростово-Суздальской земле началась борьба между боярством и князьями Михалко и Всеволодом, известным по прозвищу **(12)**. Если боярство опиралось на старые городские центры – Ростов и Суздаль, то молодых князей поддерживали «пригороды», среди которых выделялся **(13 – город)**, ставший позднее главным центром Северо-Восточной Руси. Дальнейший рост династий и дробление княжеств стали причиной появления небольших по территории **(14)**. Например, в 1263 году младший сын Александра Невского Даниил получил в управление **(15 – город)**. Главным внешнеполитическим итогом распада Древнерусского государства стало ослабление военной мощи новых княжеств, тогда как в XIII веке на северо-западе Новгороду и Пскову угрожали **(16)**, а на юге в 1223 году монголы разгромили русских князей на реке **(17)**.

<b>1.</b>		<b>2.</b>	
<b>3.</b>		<b>4.</b>	
<b>5.</b>		<b>6.</b>	
<b>7.</b>		<b>8.</b>	
<b>9.</b>		<b>10.</b>	
<b>11.</b>		<b>12.</b>	
<b>13.</b>		<b>14.</b>	
<b>15.</b>		<b>16.</b>	
<b>17.</b>			

14 Внимательно рассмотрите карту и выполните задания помещенные ниже.



1) Напишите название войны, боевые действия которой обозначены на карте, и годы её начала и конца.

**Ответ:** \_\_\_\_\_

2) Напишите, кто был главой Российского государства к началу войны и кто к началу войны возглавлял государство, с которым Россия воевала.

**Ответ:** \_\_\_\_\_

3) Напишите цифру, которой обозначен город, где был подписан мирный договор, завершивший эту войну.

**Ответ:** \_\_\_\_\_

4) Напишите название города, основанного в ходе этой войны, и укажите цифру, которой он обозначен на карте.

**Ответ:** \_\_\_\_\_

5) Верны ли представленные ниже утверждения («ДА» – «НЕТ»). Ответы внесите в таблицу.

А) К началу войны Россия владела частью территорий, обозначенных на карте штриховкой.

Б) На карте обозначен город, у стен которого русские войска потерпели сокрушительное поражение в начале войны.

В) Среди городов, обозначенных на карте, указано место генерального сражения войны.

Г) Союзниками России в этой войне были Речь Посполитая, Саксония, Дания и Пруссия.

Д) Мирный договор, завершивший войну, со стороны России подписал А.И. Остерман.


Е) В результате войны Россия приобрела все территории, заштрихованные на карте.

Ж) Граница, установившаяся по итогам данной войны, оставалась неизменной до начала XIX в.


А	Б	В	Г	Д	Е	Ж

15

Перед Вами изображения трёх конгрессов, в которых принимала участие Россия в XIX в. Определите название каждого из конгрессов, дайте объяснение, почему Вы так решили, укажите дату его проведения и назовите два решения, принятые на каждом из них.



1)



2)





3)

**Ответ:**

№	Конгресс, год	Объяснение	Решения
1			
2			
3			

16

**Перед Вами фрагмент из русско-польского договора.**

«Такожде уговорили и постановили есмы, что всем городам и землям в прошедшую войну от Короны Польской и Великаго Княжества Литовскаго завоеванным, то есть, Смоленску с городами и с уездами, которые от сего краю, от Витебскаго, от Полоцкаго и от Лютинскаго уездов к Смоленску належат, Дорогобужу, Белой, Красному с своими местами и с уездами и принадлежностями, как оныя обретаются до сего времени, по перемирному договору, быть в стороне Их Царского Величества, а с другаго краю Рославлю и где суть Северские города, Чернигову, Стародубу, Новугородку-Северскому, Почепу и иным, также и всей Малой России сея стороны Днепра городом Нежину, Переяславлю, Батурину, Полтаве, Переволочне и всем, того Малороссийскаго краю, городам и землям и местам, какими ни есть прозвищи и урочищи названные, со всеми своими уездами, селами и деревнями <...>, как они по се время по перемирному договору в стороне Их Царскаго Величества обретались, так и ныне оставатися имеют в стороне Их Царского Величества на вечныя времена. <...> А за Днепром рекою, Киев имеет оставатися также в стороне Их Царского Величества...».

**Ответьте на вопросы:**

1. Укажите название договора.	
2. Назовите год его заключения.	
3. Укажите причину начала войны, итоги которой он подводит.	
4. Укажите название «перемирного договора» упоминаемого в тексте.	

**Вам предстоит работать с высказываниями историков и современников о событиях и деятелях отечественной истории. Выберите из них одно, которое станет темой Вашего сочинения-эссе. Ваша задача – сформулировать собственное отношение к данному утверждению и обосновать его аргументами, представляющимися Вам наиболее существенными. При выборе темы исходите из того, что Вы:**

- 1. Ясно понимаете смысл высказывания (не обязательно полностью или даже частично быть согласным с автором, но необходимо понимать, что именно он утверждает).**
- 2. Можете выразить свое отношение к высказыванию (аргументированно согласиться с автором либо полностью или частично опровергнуть его высказывание).**
- 3. Располагаете конкретными знаниями (факты, статистические данные, примеры) по данной теме.**
- 4. Владеете терминами, необходимыми для грамотного изложения своей точки зрения.**

При написании работы постарайтесь исходить из того, что Жюри, оценивая Ваше эссе, будет руководствоваться следующими критериями:

1. Обоснованность выбора темы (объяснение выбора темы и задач, которые ставит перед собой в своей работе участник).
2. Творческий характер восприятия темы, ее осмысления.
3. Грамотность использования исторических фактов и терминов.
4. Четкость и доказательность основных положений работы.
5. Знание различных точек зрения по избранному вопросу.

1. «Образ царя Федора Иоанновича, ставший хрестоматийным не только в научной, но и художественной литературе искажен. Причина этого искажения была и в сложной внешнеполитической ситуации царствования Федора (мощное процветающее русское государство вызывало зависть у соседей), и в острой политической борьбе, развернувшейся после его смерти». (Л. Морозова)
2. «Полтавская битва была не простое сражение, замечательное по огромности военных сил, по упорству сражающихся и количеству пролитой крови; нет, это была битва за существование целого народа, за будущность целого государства, это была проверка действительности замыслов столь великих, что, вероятно, они самому Петру, в горькие минуты неудач и разочарования, казались несбыточными, как и почти всем его подданным...» (В.Г. Белинский)
3. «От кончины Петра I и чуть ли не до восшествия императрицы Елизаветы Петровны царствовало невежества собственная корысть и борствовалась склонность к старинным обрядам с неведением и нежеланием новых, введенных Петром». (Екатерина II)

